



### 合同な図形 4


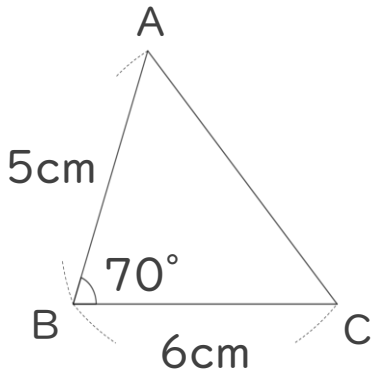
● 合同な三角形の作図  
(2組の辺とその挟む角)



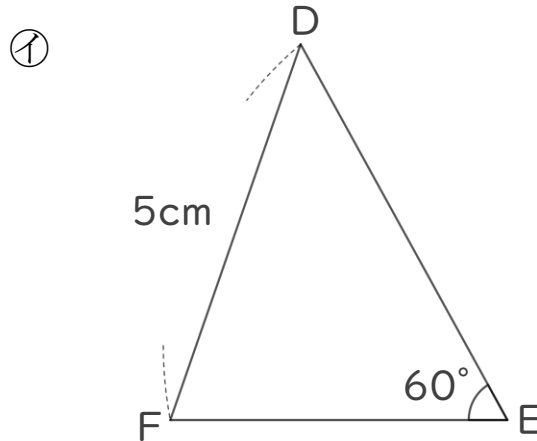
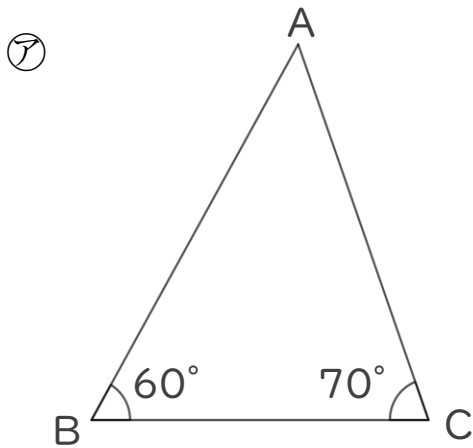
日にち：            月            日

名まえ \_\_\_\_\_

1 下の図のような三角形を、図に書かれている長さに直してかきましょう。



2 ㊦と㊧の三角形は合同です。



① 辺CAの長さは何cmですか。

答え： \_\_\_\_\_

② 角Fの大きさは何度ですか。

答え： \_\_\_\_\_



# 合同な図形 4

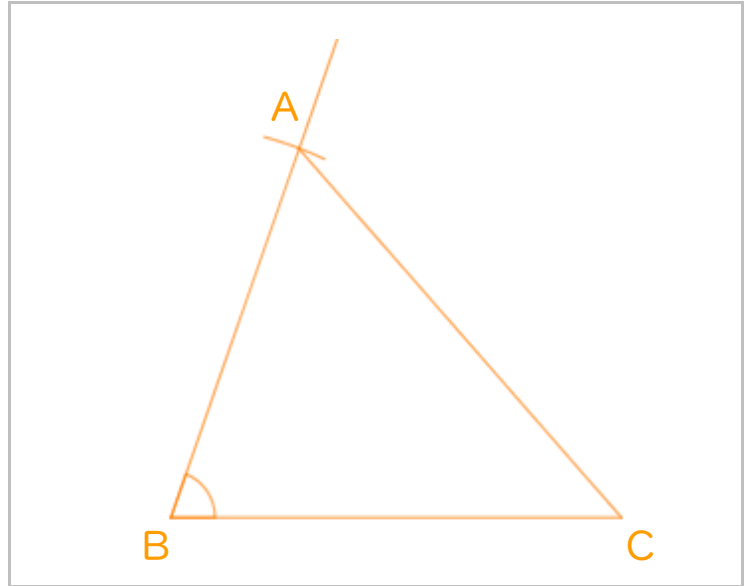
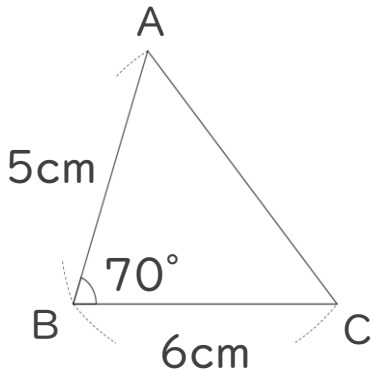
● 合同な三角形の作図  
(2組の辺とその挟む角)



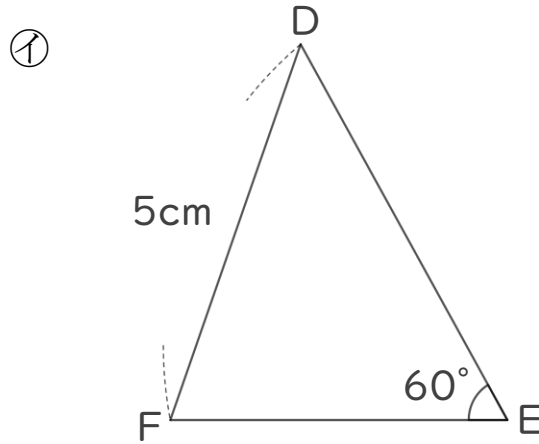
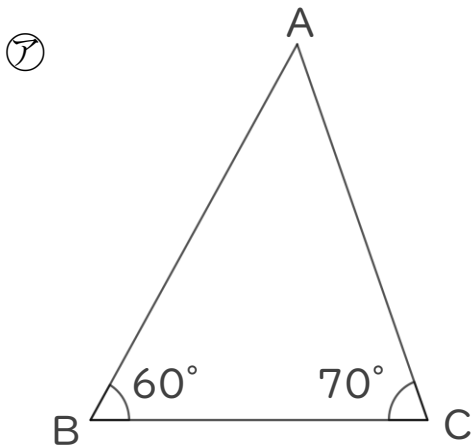
日にち：            月            日

名まえ \_\_\_\_\_

1 下の図のような三角形を、図に書かれている長さに直してかきましょう。



2 ㊦と㊧の三角形は合同です。



① 辺CAの長さは何cmですか。

答え： 5cm

② 角Fの大きさは何度ですか。

答え： 70°