



# 小数のわり算19

◎商を四捨五入して  
概数で求める




日にち： 月 日


名まえ \_\_\_\_\_

1 商は四捨五入して、上から2けたのがい数で求めましょう。  
(うすいところは、なぞりましょう。)

①  $6.55 \div 4.3$



②  $5.8 \div 2.1$



2 商が4より大きくなるのはどれですか。

①  $4 \div 1.2$

②  $4 \div 2$

③  $4 \div 0.05$

④  $4 \div 0.8$

答え： \_\_\_\_\_

3 商が7より大きくなるのはどれですか。

①  $7 \div 3$

②  $7 \div 0.5$

③  $3 \div 0.92$

④  $3 \div 1.2$

答え： \_\_\_\_\_



# 小数のわり算19

◎商を四捨五入して  
概数で求める

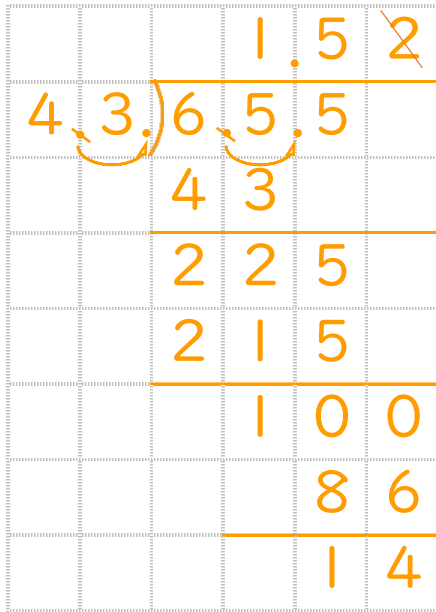


日にち：            月            日

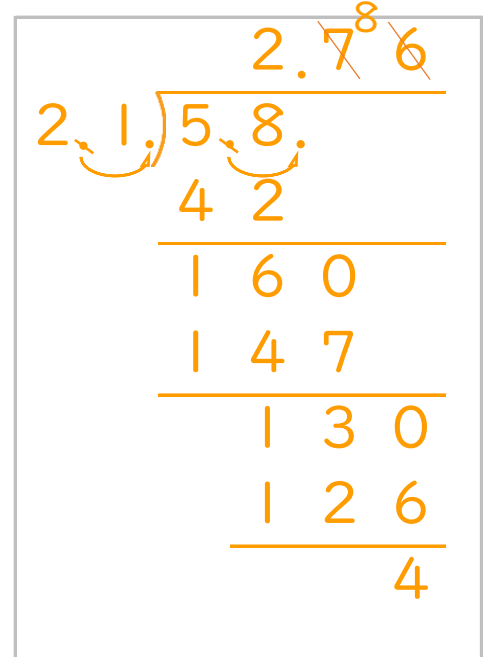
名まえ \_\_\_\_\_

1 商は四捨五入して、上から2けたのがい数で求めましょう。  
(うすいところは、なぞりましょう。)

①  $6.55 \div 4.3$



②  $5.8 \div 2.1$



2 商が4より大きくなるのはどれですか。

①  $4 \div 1.2$

②  $4 \div 2$

③  $4 \div 0.05$

④  $4 \div 0.8$

答え： ③ と ④

3 商が7より大きくなるのはどれですか。

①  $7 \div 3$

②  $7 \div 0.5$

③  $3 \div 0.92$

④  $3 \div 1.2$

答え： ② と ③