



# 小数の倍2

◎ 短いリボンは長いリボンの何倍？

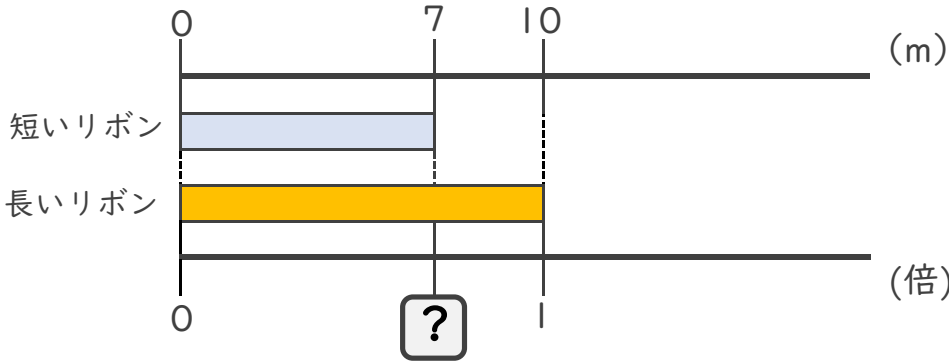


日にち： 月 日

名まえ \_\_\_\_\_

・ 次の問いに答えましょう。

① 短いリボンは長いリボンの何倍でしょうか？



式：

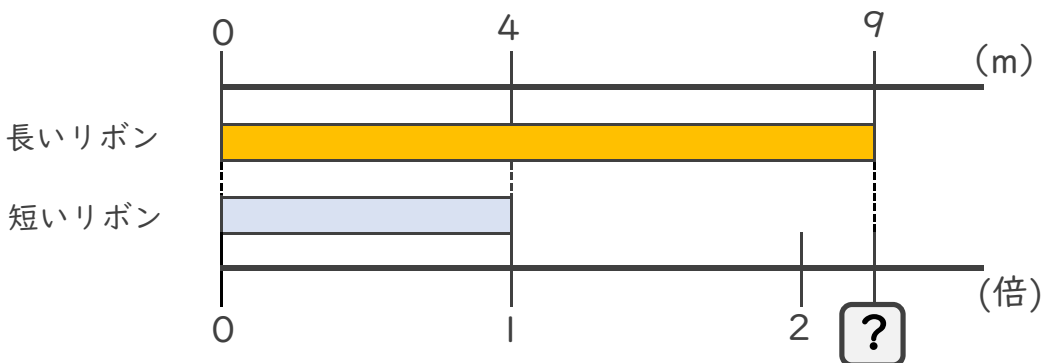
答え： \_\_\_\_\_

② 9mのリボンと15mのリボンがあります。  
短いリボンは長いリボンの何倍でしょうか？

式：

答え： \_\_\_\_\_

③ 長いリボンは短いリボンの何倍でしょうか？



式：

答え： \_\_\_\_\_





# 小数の倍2

◎ 短いリボンは  
長いリボンの何倍？

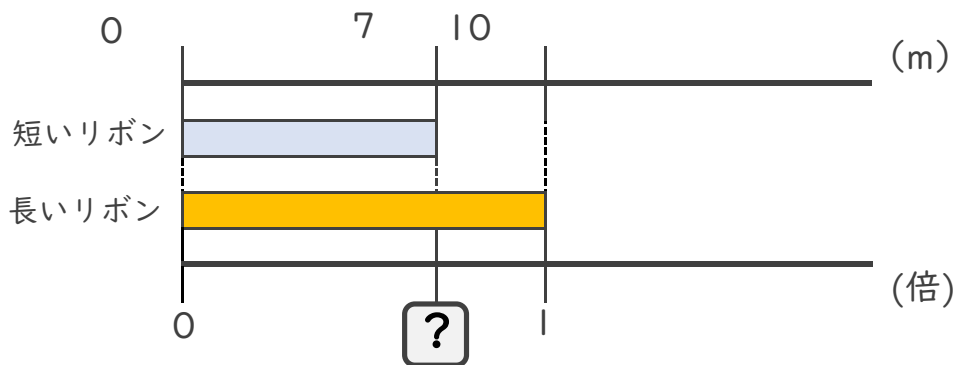


日にち：      月      日

名まえ \_\_\_\_\_

・ 次の問いに答えましょう。

① 短いリボンは長いリボンの何倍でしょうか？



式：  $7 \div 10 = 0.7$

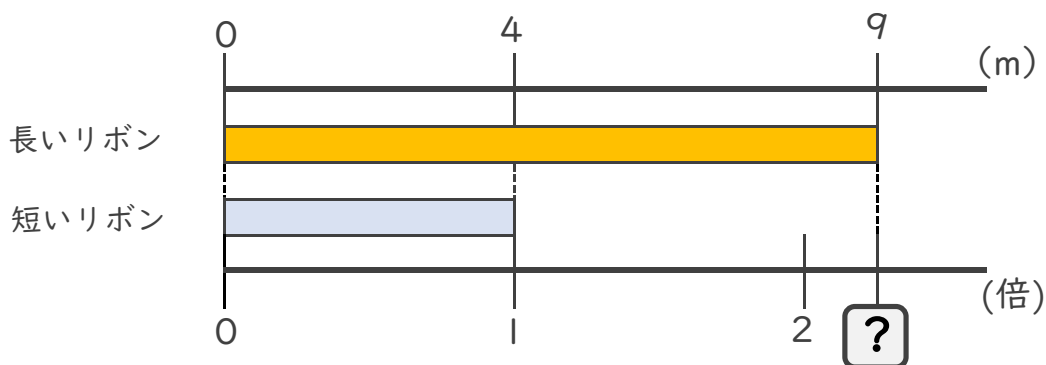
答え： 0.7倍

② 9mのリボンと15mのリボンがあります。  
短いリボンは長いリボンの何倍でしょうか？

式：  $9 \div 15 = 0.6$

答え： 0.6倍

③ 長いリボンは短いリボンの何倍でしょうか？



式：  $9 \div 4 = 2.25$

答え： 2.25倍

