



直方体や 立方体の体積 4

◎ 立方体の体積を求める公式

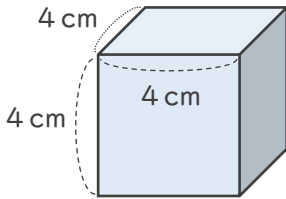
10

日にち： 月 日

名まえ _____

・ 次の直方体や立方体の体積を求めましょう。

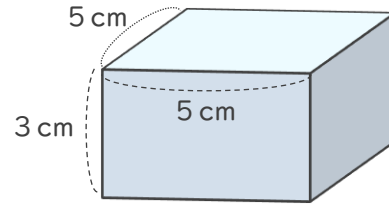
①



式： $4 \times 4 \times 4 = 64$

答え (64cm^3)

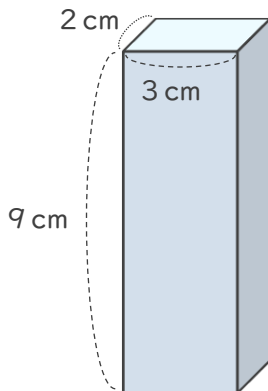
②



式： $3 \times 5 \times 5 = 75$

答え (75cm^3)

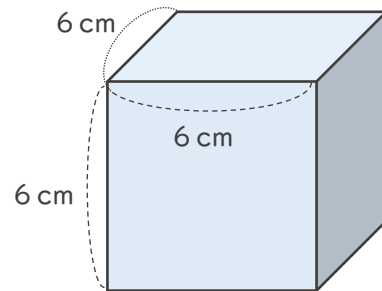
③



式： $2 \times 3 \times 9 = 54$

答え (54cm^3)

④



式： $6 \times 6 \times 6 = 216$

答え (216cm^3)

