



整数と小数5

◎ 色々な大きさの小数



日にち： 月 日

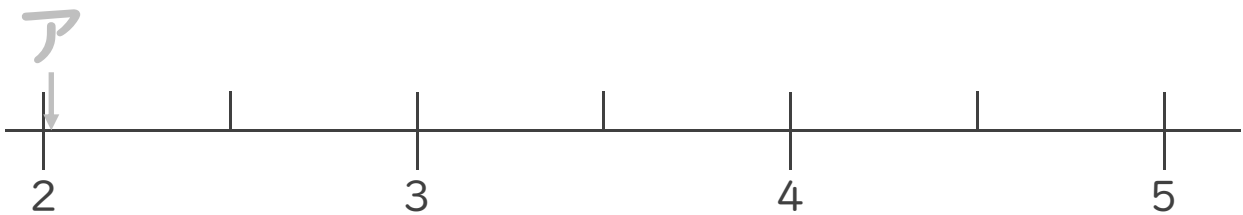
名まえ

・ 次のア～エの数について、次の問いに答えましょう


ア 2.012 イ 4.21
 ウ 3.412 エ 2.924

	一の位	$\frac{1}{10}$ の位	$\frac{1}{100}$ の位	$\frac{1}{1000}$ の位
ア				
イ				
ウ				
エ				

- ① それぞれの数を右の表に書き込もう
- ② ア～エの数を、数直線上に記号で書きこみましょう。



- ③ いちばん大きい数はいくつですか。 答え： _____
- ④ いちばん小さい数はいくつですか。 答え： _____
- ⑤ いちばん3に近い数はいくつですか。 答え： _____



整数と小数5

◎ 色々な大きさの小数



日にち： 月 日

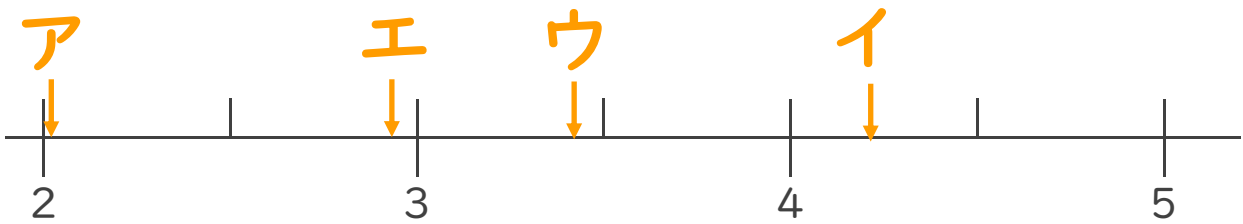
名まえ

・ 次のア～エの数について、次の問いに答えましょう

ア 2.012 イ 4.21
 ウ 3.412 エ 2.924

一の位	$\frac{1}{10}$ の位	$\frac{1}{100}$ の位	$\frac{1}{1000}$ の位
ア	2	0	12
イ	4	2	1
ウ	3	4	12
エ	2	9	24

- ① それぞれの数を右の表に書き込もう
- ② ア～エの数を、数直線上に記号で書きこみましょう。



③ いちばん大きい数はいくつですか。

答え： イ

④ いちばん小さい数はいくつですか。

答え： ア

⑤ いちばん3に近い数はいくつですか。

答え： エ