



小数の倍①

◎ 長いリボンは
短いリボンの何倍？

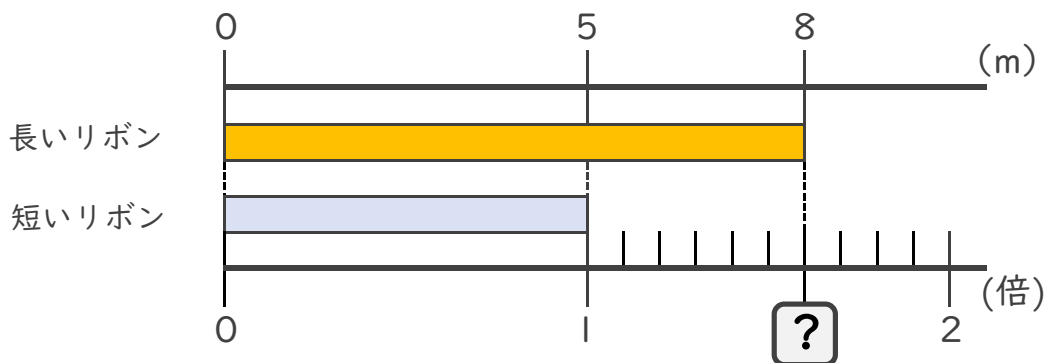


日にち： 月 日

名まえ _____

・ 次の問いに答えましょう。

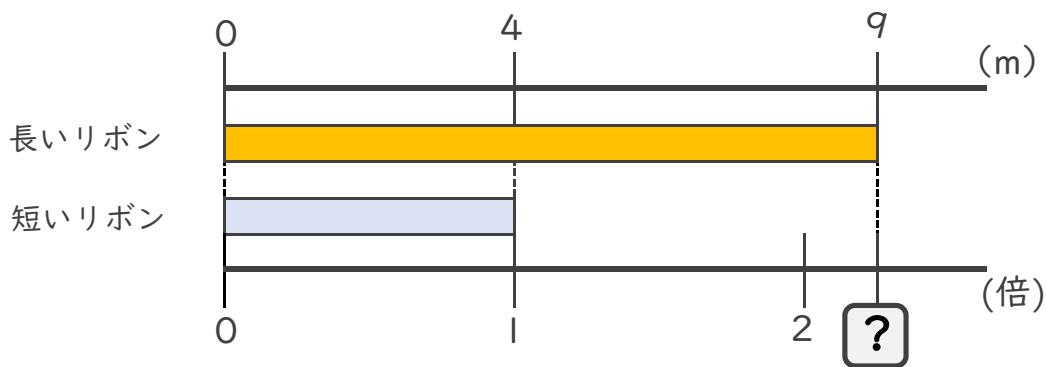
① 長いリボンは短いリボンの何倍でしょうか？



式： $8 \div 5 =$

答え： _____

② 長いリボンは短いリボンの何倍でしょうか？



式：


答え： _____

③ 10mのリボンと8mのリボンがあります。
長いリボンは短いリボンの何倍でしょうか？

式：

答え： _____





小数の倍①

◎ 長いリボンは
短いリボンの何倍？

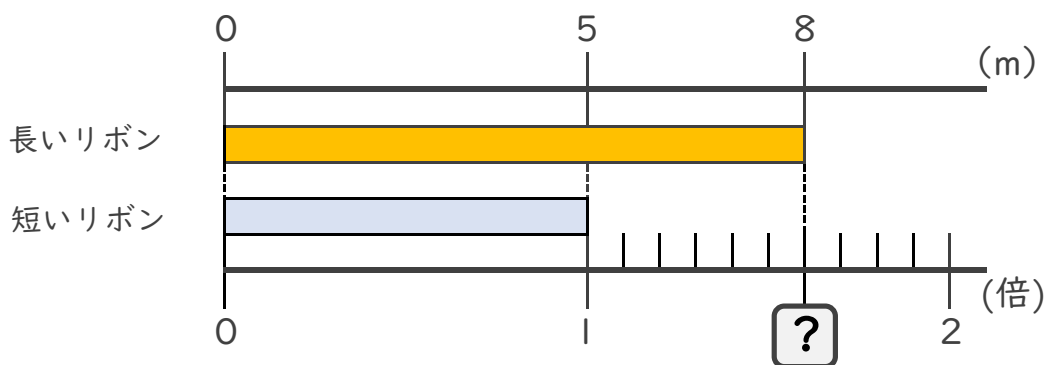


日にち： 月 日

名まえ _____

・ 次の問いに答えましょう。

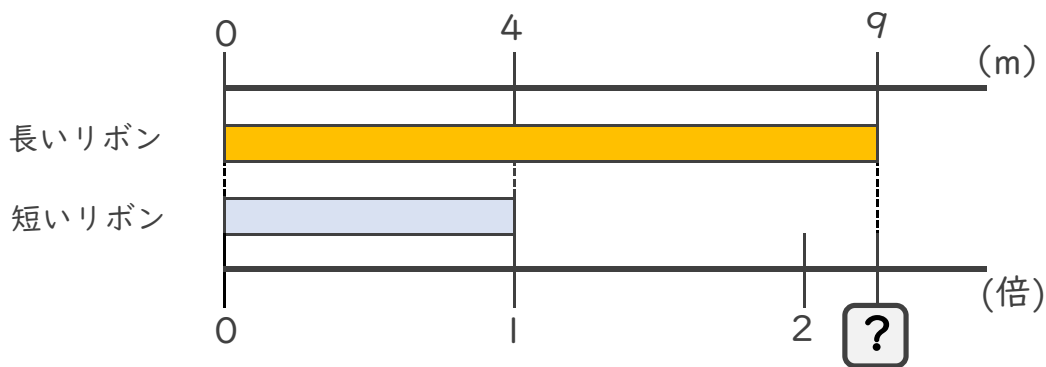
① 長いリボンは短いリボンの何倍でしょうか？



式： $8 \div 5 = 1.6$

答え： 1.6倍

② 長いリボンは短いリボンの何倍でしょうか？



式： $9 \div 4 = 2.25$

答え： 2.25倍

③ 10mのリボンと8mのリボンがあります。
長いリボンは短いリボンの何倍でしょうか？

式： $10 \div 8 = 1.25$

答え： 1.25倍

