



# 小数の倍①

◎ 長いリボンは  
短いリボンの何倍？

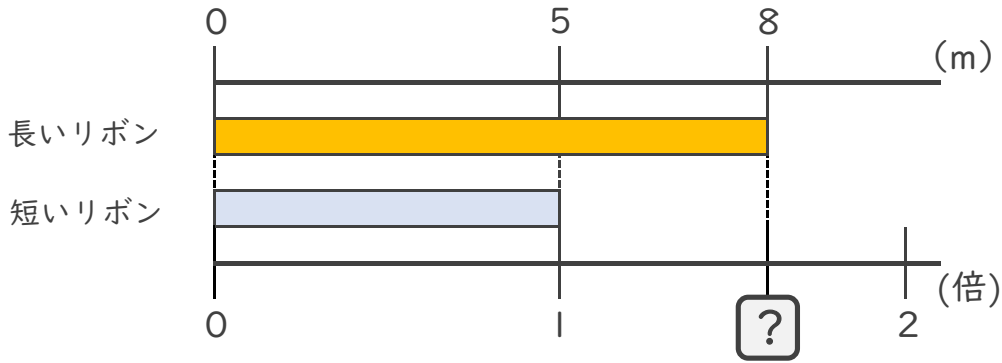


日にち：        月        日

名まえ \_\_\_\_\_

・ 次の問いに答えましょう。

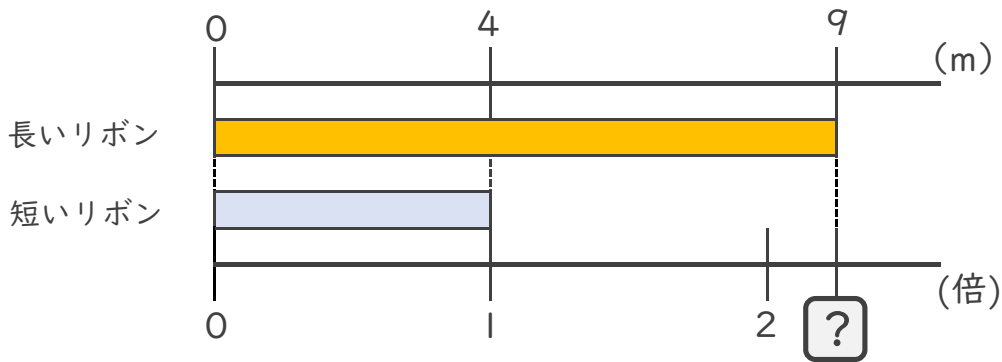
① 長いリボンは短いリボンの何倍ですか。



式：

答え： \_\_\_\_\_

② 長いリボンは短いリボンの何倍ですか。



式：

答え： \_\_\_\_\_

③ 10mのリボンと8mのリボンがあります。  
長いリボンは短いリボンの何倍ですか。

式：

答え： \_\_\_\_\_





# 小数の倍①

◎ 長いリボンは  
短いリボンの何倍？

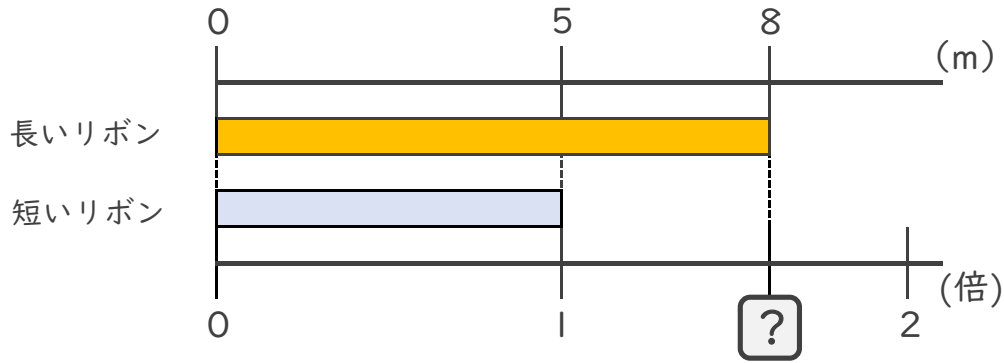


日にち：        月        日

名まえ \_\_\_\_\_

・ 次の問いに答えましょう。

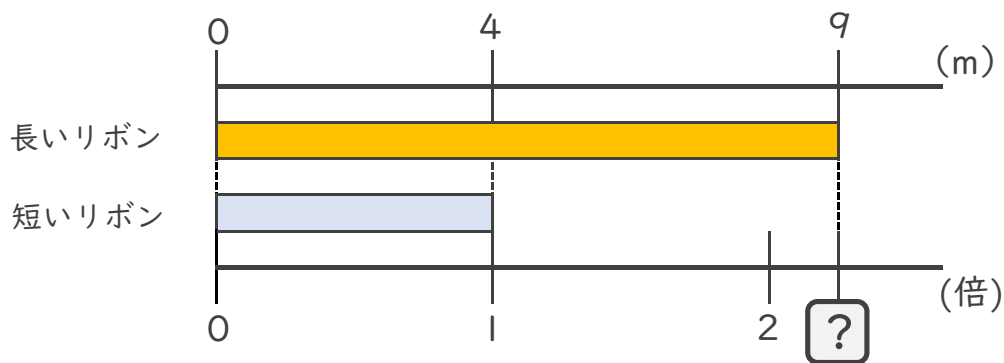
① 長いリボンは短いリボンの何倍ですか。



式：  $8 \div 5 = 1.6$

答え： 1.6倍

② 長いリボンは短いリボンの何倍ですか。



式：  $9 \div 4 = 2.25$

答え： 2.25倍

③ 10mのリボンと8mのリボンがあります。  
長いリボンは短いリボンの何倍ですか。

式：  $10 \div 8 = 1.25$

答え： 1.25倍

