



整数と小数7

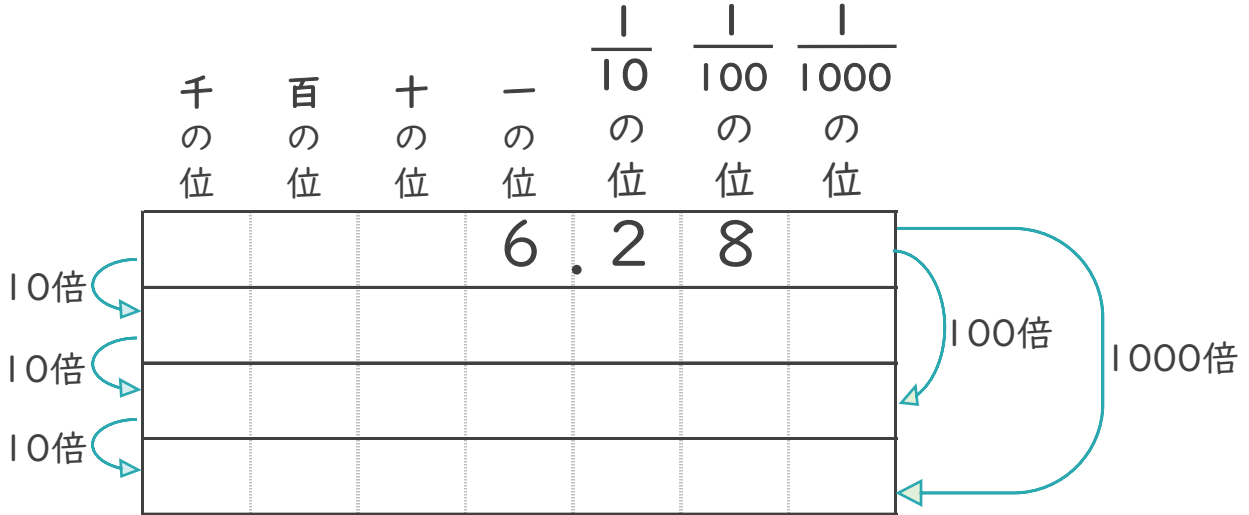
◎10倍, 100倍などの位の移動



日にち： 月 日

名まえ _____

1 6.28を10倍、100倍、1000倍すると、どんな数になるでしょう。

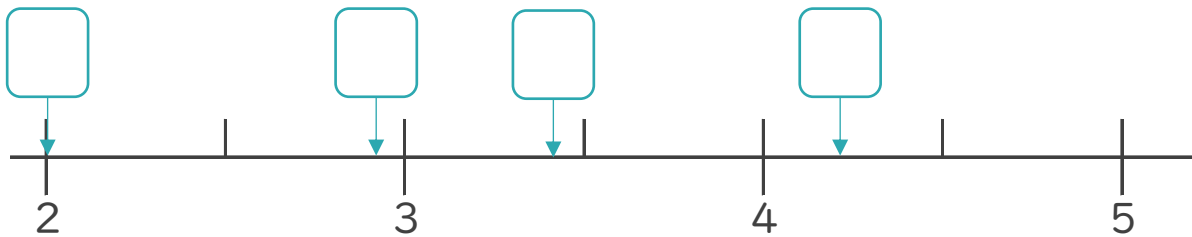


2 次のア～エの数について、次の問いに答えましょう。

ア 2.012 イ 4.21

ウ 3.412 エ 2.924

① 次の数直線の にあてはまる数を、ア～エから書きましょう。



② いちばん大きい数はいくつですか。

答え： _____

③ いちばん小さい数はいくつですか。

答え： _____



整数と小数7

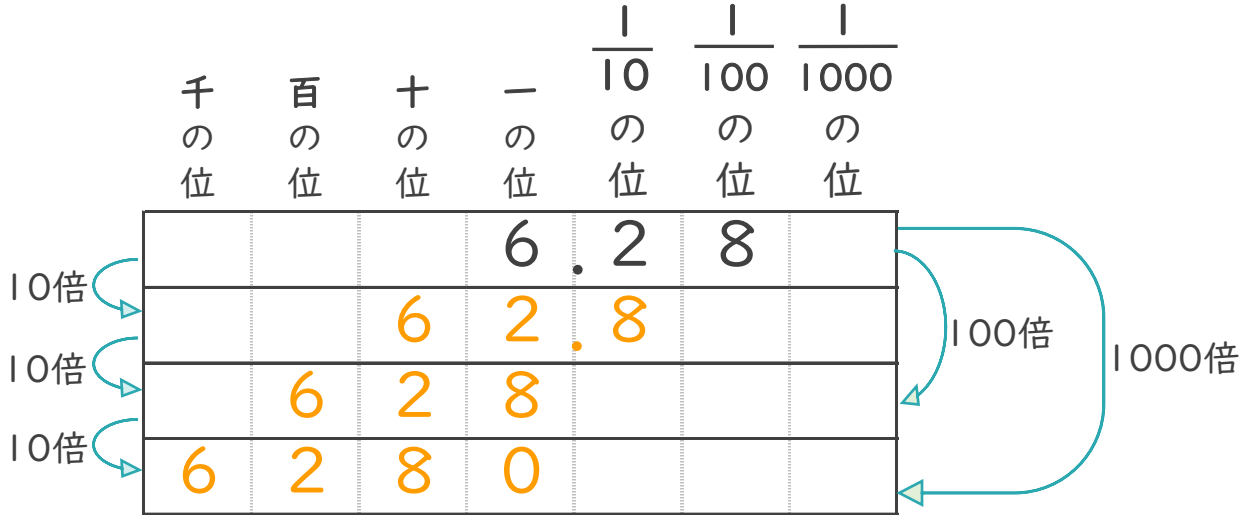
◎10倍、100倍などの位の移動



日にち： 月 日

名まえ _____

1 6.28を10倍、100倍、1000倍すると、どんな数になるでしょう。

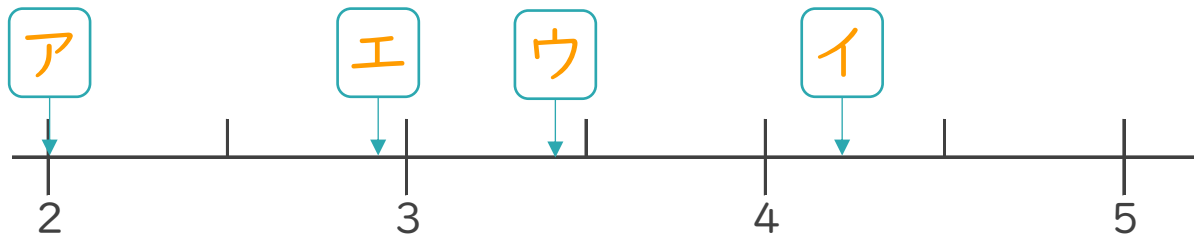


2 次のア～エの数について、次の問いに答えましょう。

ア 2.012 イ 4.21

ウ 3.412 エ 2.924

① 次の数直線の にあてはまる数を、ア～エから書きましょう。



② いちばん大きい数はいくつですか。

答え： イ

③ いちばん小さい数はいくつですか。

答え： ア