





# 直方体や 立方体の体積 5

● m と cm の混ざった  
体積を求める計算

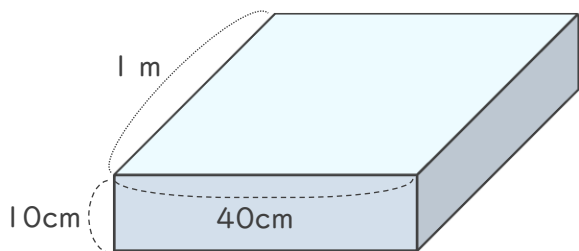


日にち：            月            日

名まえ \_\_\_\_\_

・ 次の直方体や立方体の体積を求めましょう。

①

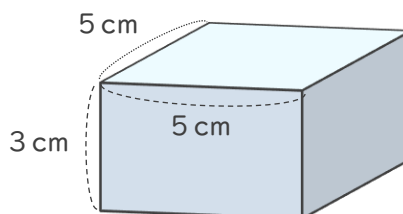


式

$$100 \times 40 \times 10 = 40000$$

答え (  $40000\text{cm}^3$  )

②

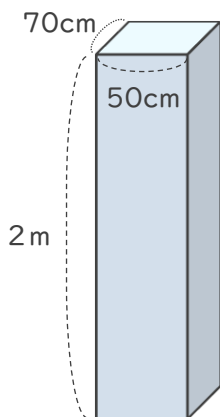


式

$$5 \times 5 \times 3 = 75$$

答え (  $75\text{cm}^3$  )

③

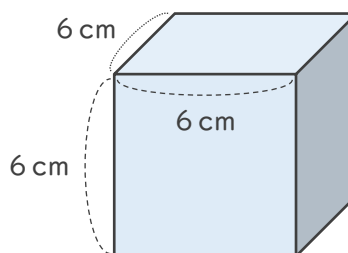


式

$$70 \times 50 \times 200 = 700000$$

答え (  $700000\text{cm}^3$  )

④



式

$$6 \times 6 \times 6 = 216$$

答え (  $216\text{cm}^3$  )

