



小数のかけ算 17

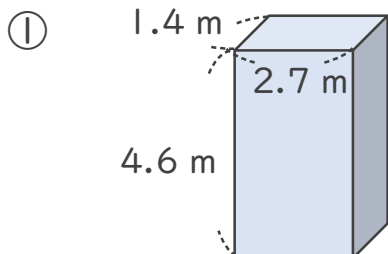
◎ 直方体の体積



日にち： 月 日

名まえ _____

・ 次の立体の体積は何 m^3 でしょうか。



<筆算>

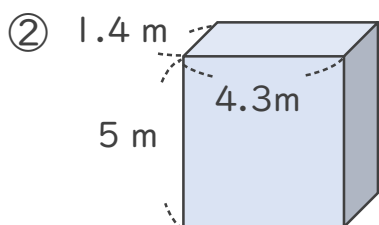
× _____

式：

<筆算>

× _____

答え：



<筆算>

× _____

式：

<筆算>

× _____

答え：





小数のかけ算 17

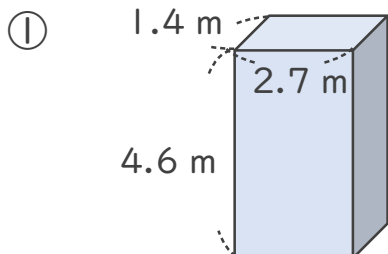
◎ 直方体の体積



日にち： 月 日

名まえ _____

・ 次の立体の体積は何 m^3 でしょうか。



式： $1.4 \times 2.7 \times 4.6 = 17.388$

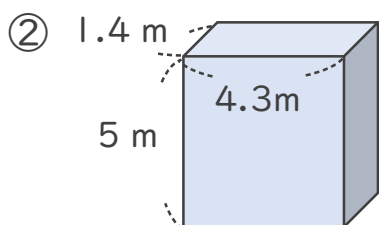
<筆算>

$$\begin{array}{r} 1.4 \\ \times 2.7 \\ \hline 98 \\ 28 \\ \hline 3.78 \end{array}$$

<筆算>

$$\begin{array}{r} 3.78 \\ \times 4.6 \\ \hline 2268 \\ 1512 \\ \hline 17.388 \end{array}$$

答え： $17.388 m^3$



式： $1.4 \times 4.3 \times 5 = 30.1$

<筆算>

$$\begin{array}{r} 1.4 \\ \times 4.3 \\ \hline 42 \\ 56 \\ \hline 6.02 \end{array}$$

<筆算>

$$\begin{array}{r} 6.02 \\ \times 5 \\ \hline 30.10 \end{array}$$

答え： $30.1 m^3$

