

# 小数のかけ算 16

## ㊦ 長方形の面積



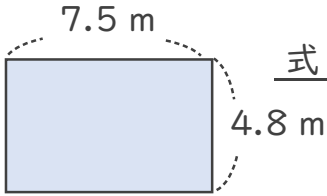
日にち：            月            日

名まえ \_\_\_\_\_

1. 次の長方形の面積は何㎡でしょうか。

①

<筆算>



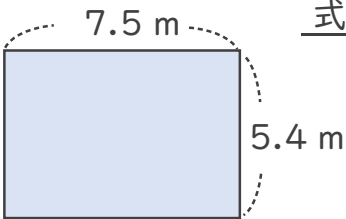
式： \_\_\_\_\_

×  
\_\_\_\_\_

答え： \_\_\_\_\_

②

<筆算>



式： \_\_\_\_\_

×  
\_\_\_\_\_

答え： \_\_\_\_\_

2. 積が6より大きくなるもの、同じもの、小さくなるものを選び、番号を書きましょう。


- ①  $6 \times 1$     ②  $6 \times 0.1$     ③  $6 \times 1.3$     ④  $6 \times 0.9$     ⑤  $6 \times 1.4$

大きくなるもの： \_\_\_\_\_

小さくなるもの： \_\_\_\_\_

同じもの： \_\_\_\_\_





# 小数のかけ算 16

## ◎ 長方形の面積



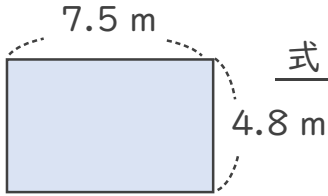
日にち：            月            日

名まえ \_\_\_\_\_

1. 次の長方形の面積は何㎡でしょうか。

①

<筆算>



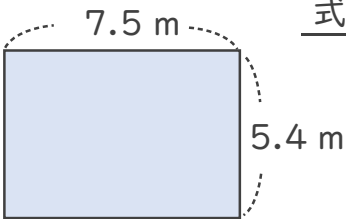
式：  $4.8 \times 7.5 = 36$

$$\begin{array}{r}
 4.8 \\
 \times 7.5 \\
 \hline
 240 \\
 336 \\
 \hline
 36.00
 \end{array}$$

答え：  $36 \text{ m}^2$

②

<筆算>



式：  $5.4 \times 7.5 = 40.5$

$$\begin{array}{r}
 5.4 \\
 \times 7.5 \\
 \hline
 270 \\
 378 \\
 \hline
 40.50
 \end{array}$$

答え：  $40.5 \text{ m}^2$

2. 積が6より大きくなるもの、同じもの、小さくなるものを選び、番号を書きましょう。

- ①  $6 \times 1$     ②  $6 \times 0.1$     ③  $6 \times 1.3$     ④  $6 \times 0.9$     ⑤  $6 \times 1.4$

大きくなるもの： ③ と ⑤

小さくなるもの： ② と ④

同じもの： ①

