



小数のわり算 18

◎ あまりのあるわり算
(商が整数)




日にち： 月 日


名まえ _____

1 商は一の位まで求めて、あまりも出しましょう。


① $7.7 \div 2.4$




② $36.6 \div 4.2$



③ $93.8 \div 2.5$



④ $92.8 \div 7.4$



2 商が8より大きくなるのはどれですか。

① $8 \div 0.02$

② $8 \div 1.5$

③ $8 \div 0.9$

④ $8 \div 3$

答え： _____



小数のわり算 18

◎ あまりのあるわり算
(商が整数)

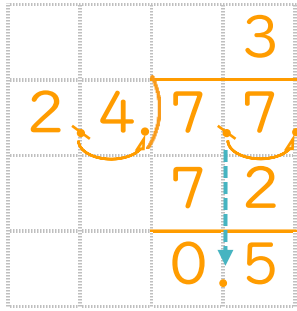


日にち： 月 日

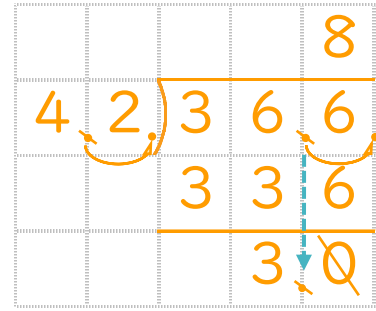
名まえ _____

1 商は一の位まで求めて、あまりも出しましょう。

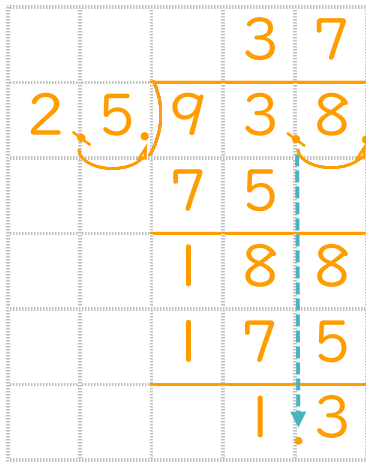
① $7.7 \div 2.4$



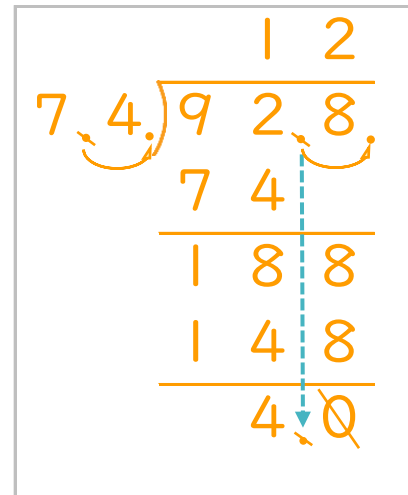
② $36.6 \div 4.2$



③ $93.8 \div 2.5$



④ $92.8 \div 7.4$



2 商が8より大きくなるのはどれですか。

① $8 \div 0.02$

② $8 \div 1.5$

③ $8 \div 0.9$

④ $8 \div 3$

答え： ① と ③