



小数のわり算II

◎ わりすすみ
(商が小数第一位までの真小数)




日にち： 月 日


名まえ _____

・ 次の計算をしなさい。


① $0.9 \div 4.5$




② $2.73 \div 3.9$




③ $0.6 \div 1.2$




④ $0.9 \div 1.8$



⑤ $4.2 \div 3.5$



⑥ $0.6 \div 1.5$





小数のわり算II

◎ わりすすみ
(商が小数第一位までの真小数)



日にち： 月 日

名まえ _____

・ 次の計算をしなさい。

① $0.9 \div 4.5$

			0.	2	
4	5)	0	9	0
			9	0	
					0

② $2.73 \div 3.9$

			0.	7	
3	9)	2	7	3
			2	7	3
					0

③ $0.6 \div 1.2$

			0.	5	
1	2)	0	6	0
			6	0	
					0

④ $0.9 \div 1.8$

			0.	5	
1	8)	0	9	0
			9	0	
					0

⑤ $4.2 \div 3.5$

			1.	2		
3	5)	4	2		
			3	5		
					7	0
					7	0
						0

⑥ $0.6 \div 1.5$

			0.	4	
1	5)	0	6	0
			6	0	
					0