



# 小数のわり算 10

◎ わりすすみ (3けた)

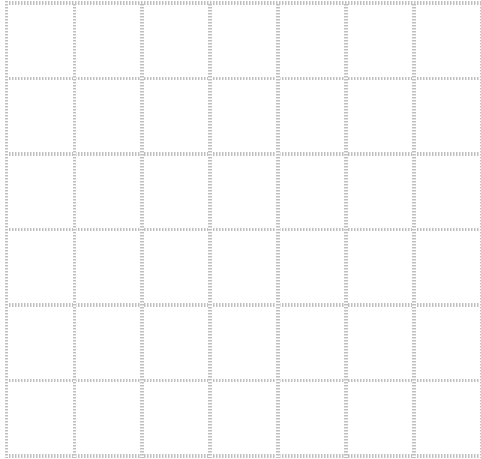


日にち： 月 日


名まえ \_\_\_\_\_

・ 次の計算をしなさい。


①  $6.24 \div 4.16$




②  $8.4 \div 1.5$




③  $7.56 \div 1.68$




④  $3.51 \div 3.9$



⑤  $8.52 \div 3.55$



⑥  $5.28 \div 3.52$





# 小数のわり算 10

◎ わりすすみ (3けた)



日にち： 月 日

名まえ \_\_\_\_\_

・ 次の計算をしなさい。

①  $6.24 \div 4.16$

				1.5
4.16	6.24			
		4.16		
		2080		
		2080		
				0

②  $8.4 \div 1.5$

				5.6
1.5	8.4			
		7.5		
		90		
		90		
				0

③  $7.56 \div 1.68$

				4.5
1.68	7.56			
		6.72		
		840		
		840		
				0

④  $3.51 \div 3.9$

				0.9
3.9	3.51			
		3.51		
				0

⑤  $8.52 \div 3.55$

				2.4
3.55	8.52			
		7.10		
		1420		
		1420		
				0

⑥  $5.28 \div 3.52$

				1.5
3.52	5.28			
		3.52		
		1760		
		1760		
				0