

小数の倍3

◎ リボンを小数倍した長さ

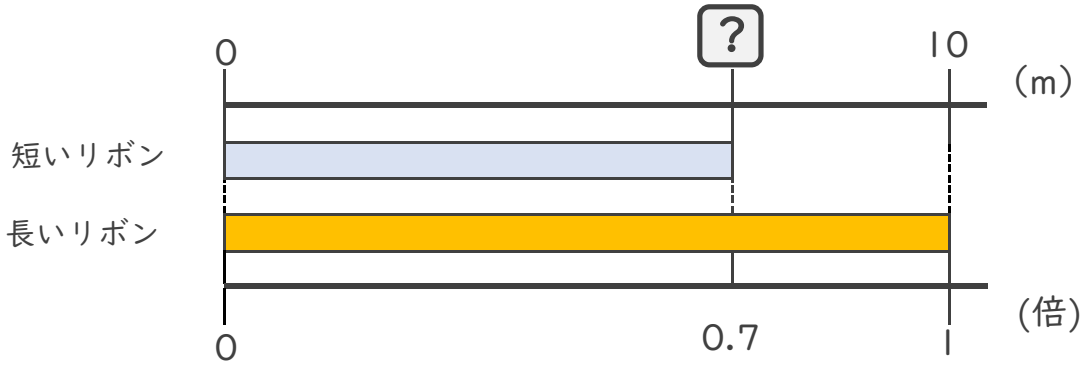


日にち： 月 日

名まえ _____

・ 次の問いに答えましょう。

① 短いリボンは長いリボンの0.7倍の長さです。短いリボンの長さをもとめましょう。



式：

答え： _____

② 15mの赤いリボンがあります。青いリボンは赤いリボンの0.4倍の長さです。青いリボンの長さをもとめましょう。

式：

答え： _____

③ 5mのリボンと25mのリボンがあります。短いリボンは長いリボンの何倍でしょうか？

式：


答え： _____

④ 15mのリボンと6mのリボンがあります。長いリボンは短いリボンの何倍でしょうか？

式：

答え： _____





小数の倍3

◎ リボンを小数倍した長さ

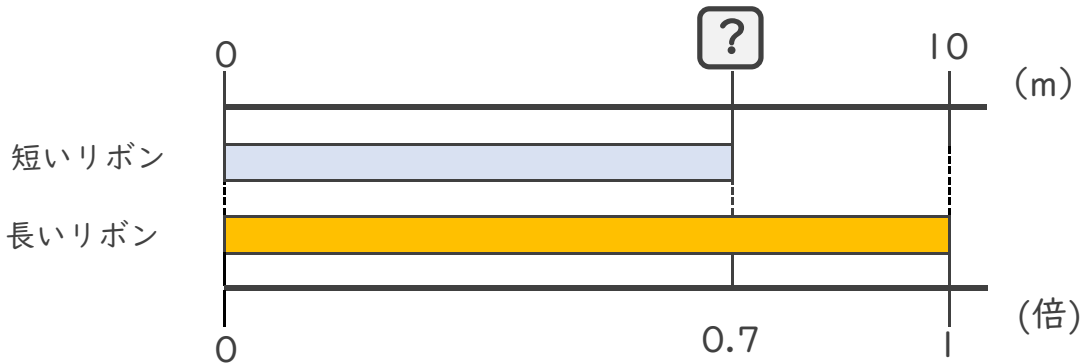


日にち： 月 日

名まえ _____

・ 次の問いに答えましょう。

① 短いリボンは長いリボンの0.7倍の長さです。短いリボンの長さをもとめましょう。



$$\text{式： } 10 \times 0.7 = 7$$

答え： 7m

② 15mの赤いリボンがあります。青いリボンは赤いリボンの0.4倍の長さです。青いリボンの長さをもとめましょう。

$$\text{式： } 15 \times 0.4 = 6$$

答え： 6m

③ 5mのリボンと25mのリボンがあります。
短いリボンは長いリボンの何倍でしょうか？

$$\text{式： } 25 \div 5 = 0.2$$

答え： 0.2倍

④ 15mのリボンと6mのリボンがあります。
長いリボンは短いリボンの何倍でしょうか？

$$\text{式： } 15 \div 6 = 2.5$$

答え： 2.5倍

