



四角形と
三角形の面積 8

● 台形の面積を求める公式

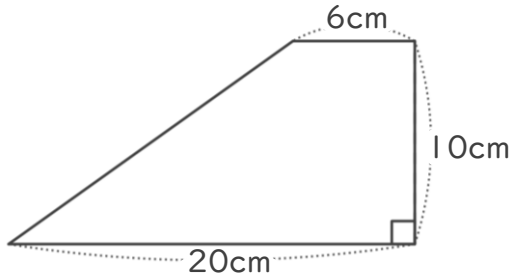


日にち： 月 日

名まえ _____

・ 次の台形や三角形の面積を計算でもとめましょう。

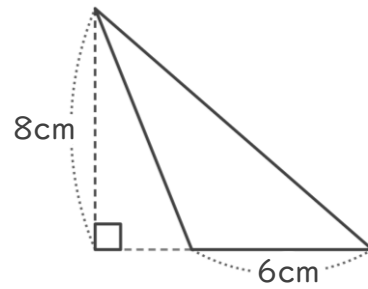
①



式：

答え： _____

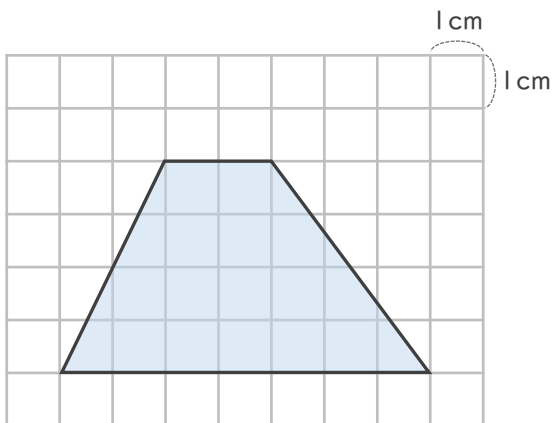
②



式：

答え： _____

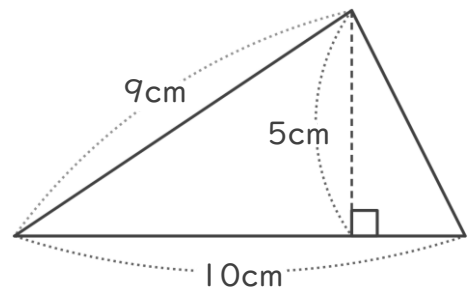
③



式：

答え： _____

④



式：

答え： _____





四角形と
三角形の面積 8

● 台形の面積を求める公式

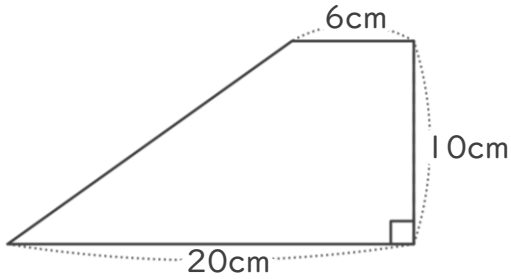


日にち： 月 日

名まえ _____

・ 次の台形や三角形の面積を計算でもとめましょう。

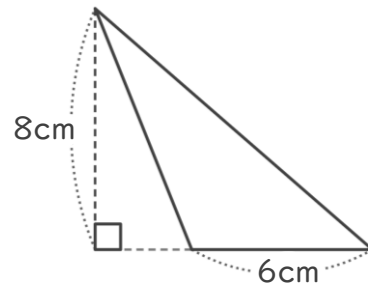
①



式： $(6+20) \times 10 \div 2 = 130$

答え： 130cm^2

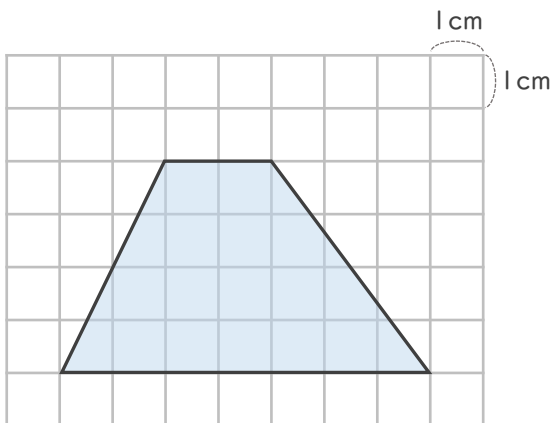
②



式： $6 \times 8 \div 2 = 24$

答え： 24cm^2

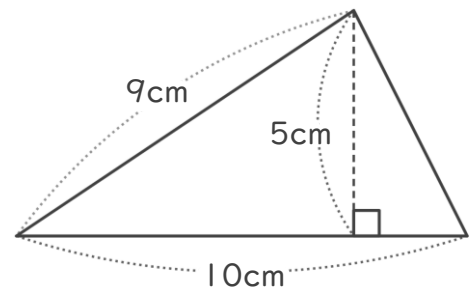
③



式： $(7+2) \times 4 \div 2 = 18$

答え： 18cm^2

④



式： $10 \times 5 \div 2 = 25$

答え： 25cm^2

