



# 合同な図形2

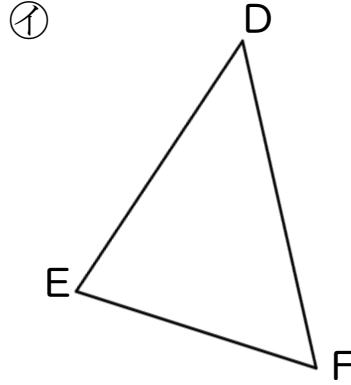
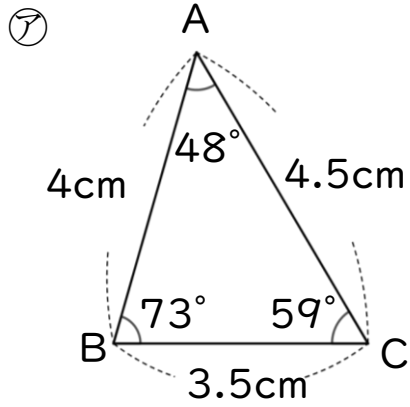
対応する辺や角探し



日にち：            月            日

名まえ \_\_\_\_\_

1 ㊦と㊧の三角形は合同です。



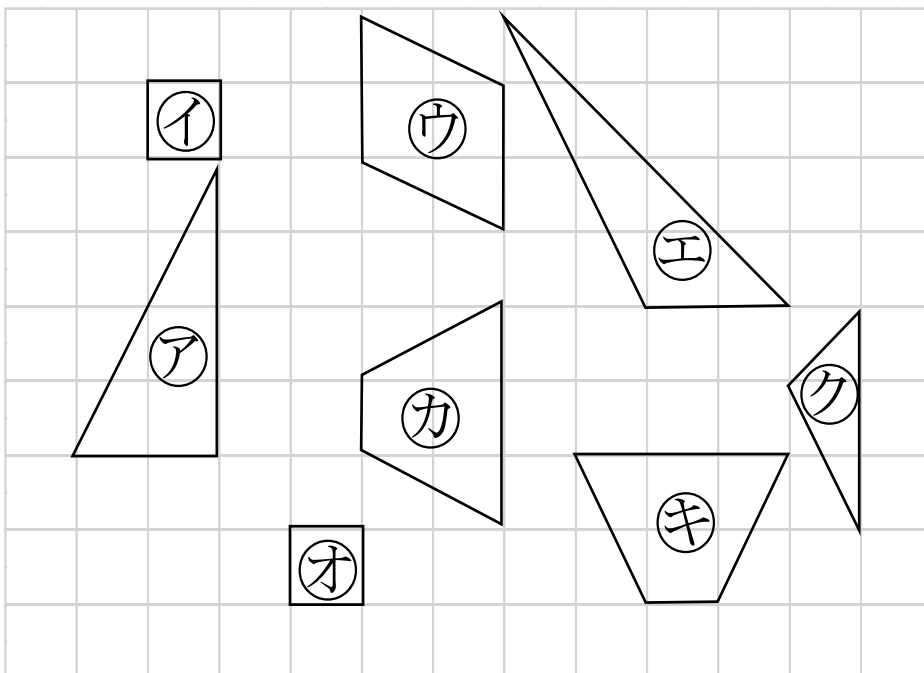
① 辺DFの長さは何cmですか。

答え： \_\_\_\_\_

② 角Eの大きさは何度ですか。

答え： \_\_\_\_\_

2 次の図で、合同な図形はどれとどれですか。記号ですべて答えなさい。



答え： \_\_\_\_\_





# 合同な図形2

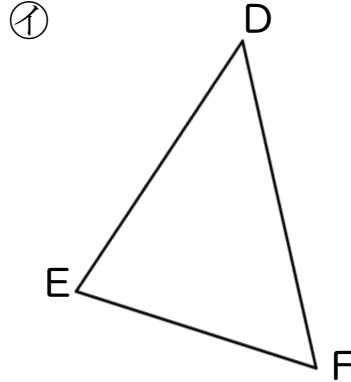
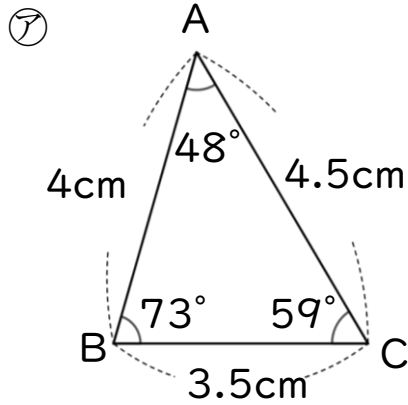
対応する辺や角探し



日にち： 月 日

名まえ \_\_\_\_\_

1 ㊦と㊧の三角形は合同です。



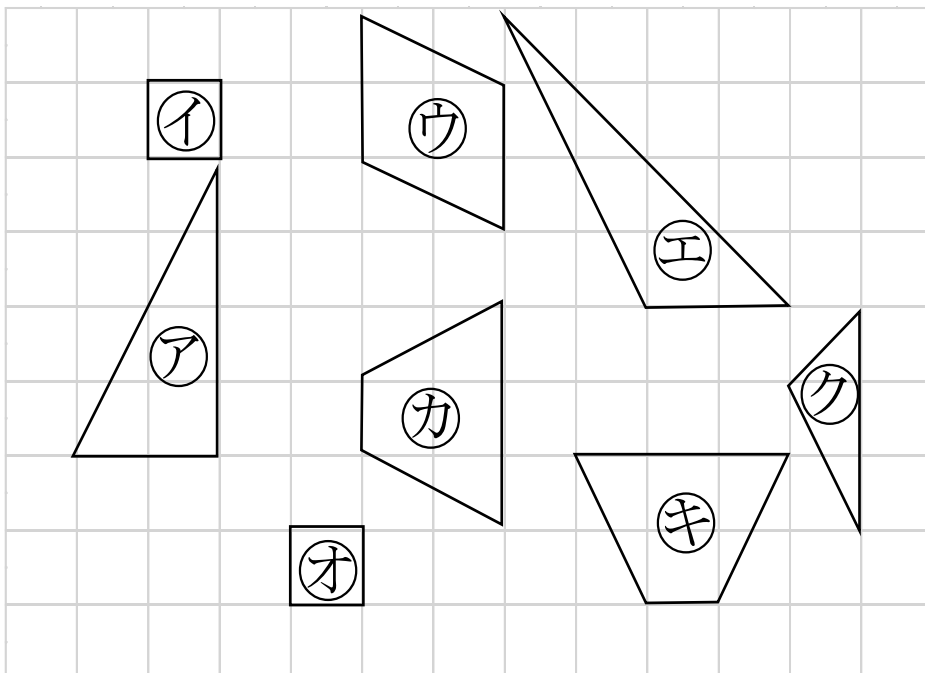
① 辺DFの長さは何cmですか。

答え： 4.5cm

② 角Eの大きさは何度ですか。

答え： 73°

2 次の図で、合同な図形はどれとどれですか。記号ですべて答えなさい。



答え： イ と オ  
カ と キ

