



小数の倍2

◎ 短いリボンは長いリボンの何倍？

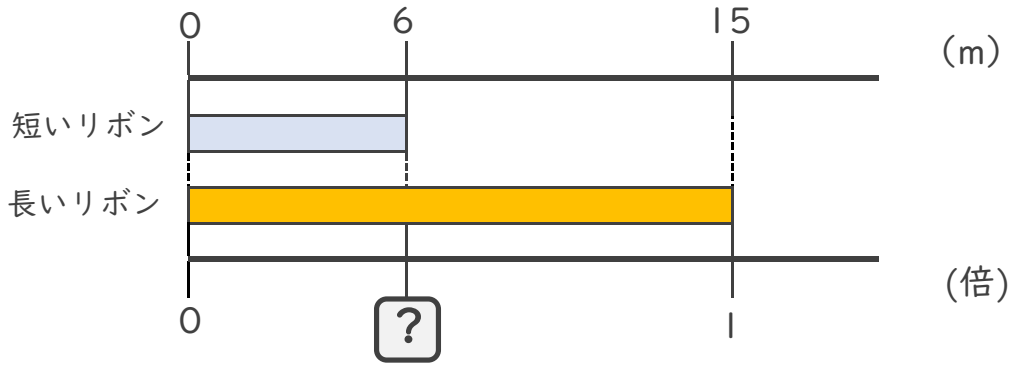


日にち： 月 日

名まえ _____

・ 次の問いに答えましょう。

① 短いリボンは長いリボンの何倍でしょうか？



式：

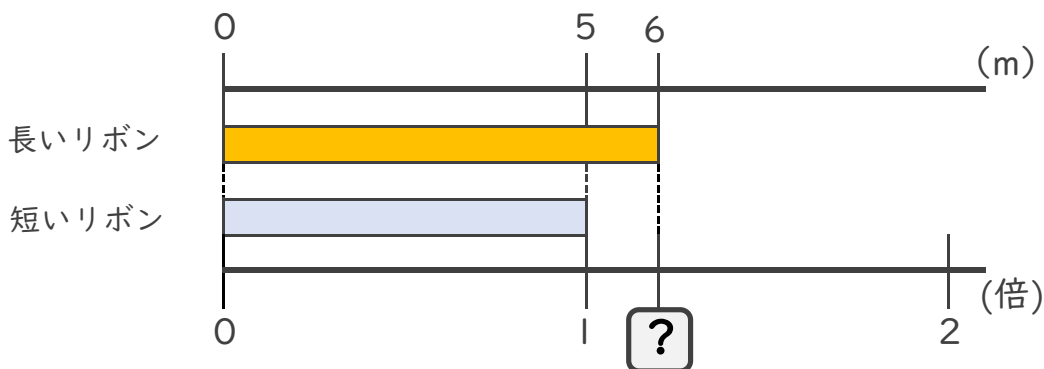
答え： _____

② 4mのリボンと10mのリボンがあります。
短いリボンは長いリボンの何倍でしょうか？

式：

答え： _____

③ 長いリボンは短いリボンの何倍でしょうか？



式：

答え： _____





小数の倍2

◎ 短いリボンは長いリボンの何倍？

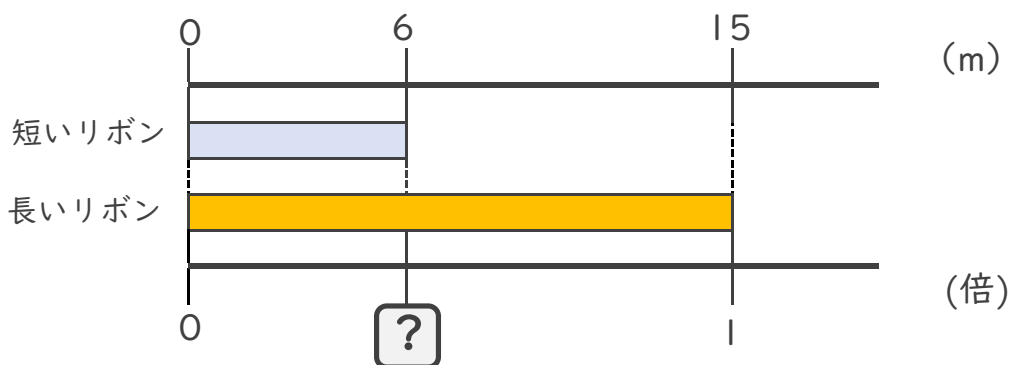


日にち： 月 日

名まえ _____

・ 次の問いに答えましょう。

① 短いリボンは長いリボンの何倍でしょうか？



式： $6 \div 15 = 0.4$

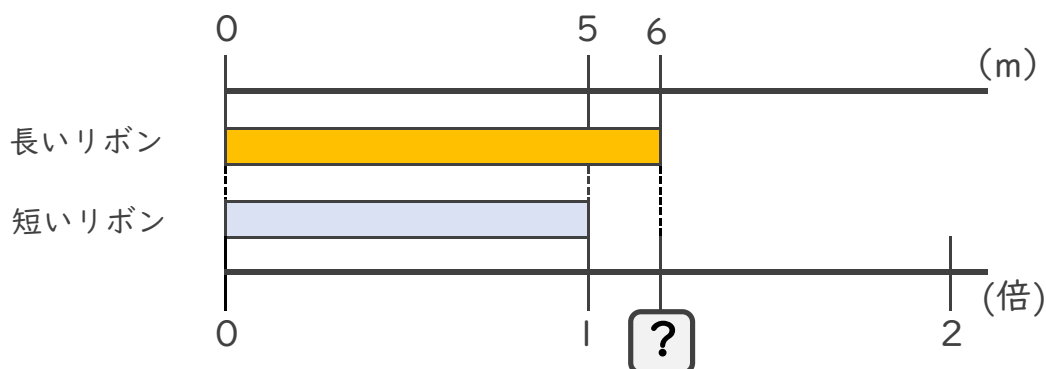
答え： 0.4倍

② 4mのリボンと10mのリボンがあります。
短いリボンは長いリボンの何倍でしょうか？

式： $4 \div 10 = 0.4$

答え： 0.4倍

③ 長いリボンは短いリボンの何倍でしょうか？



式： $6 \div 5 = 1.2$

答え： 1.2倍

