



小数の倍①

◎ 長いリボンは
短いリボンの何倍？

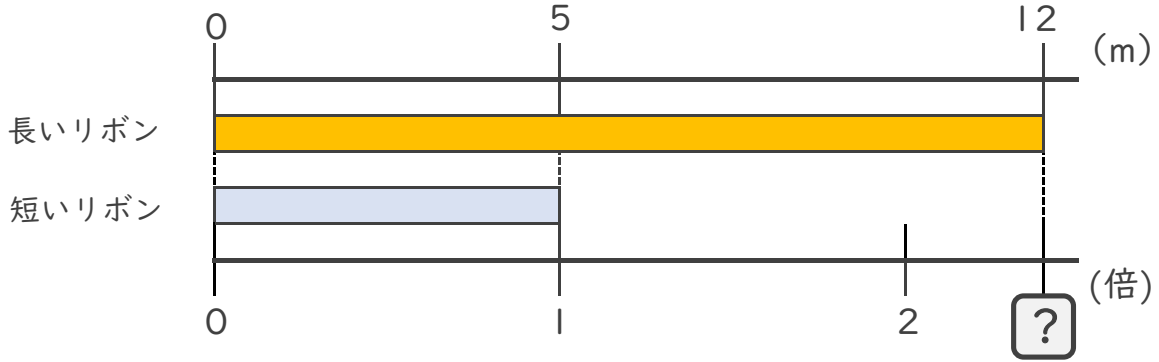


日にち： 月 日

名まえ _____

・ 次の問いに答えましょう。

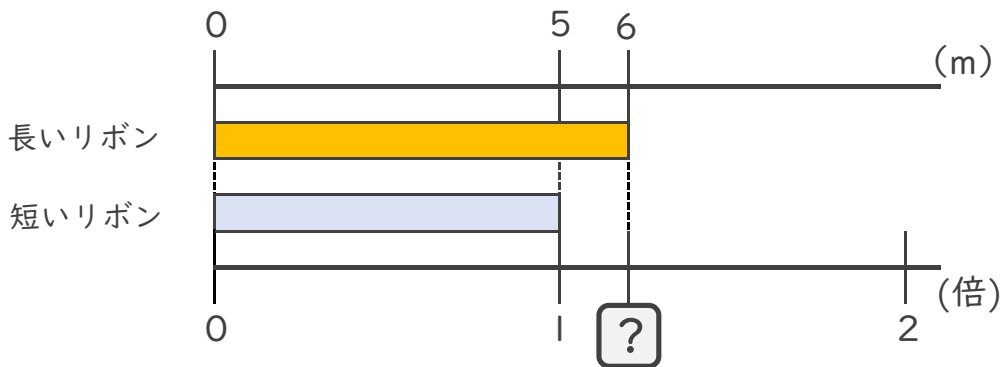
① 長いリボンは短いリボンの何倍ですか。



式：

答え： _____

② 長いリボンは短いリボンの何倍ですか。



式：

答え： _____

③ 5mのリボンと11mのリボンがあります。
長いリボンは短いリボンの何倍ですか。

式：

答え： _____





小数の倍①

◎ 長いリボンは
短いリボンの何倍？

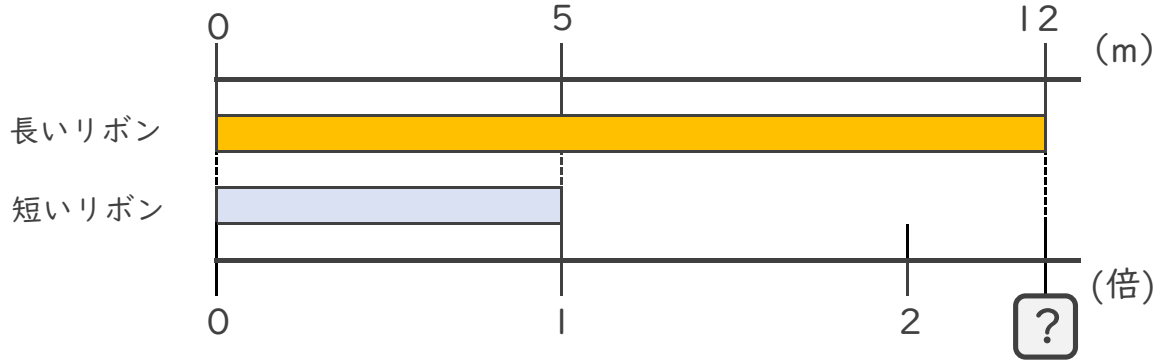


日にち： 月 日

名まえ _____

・ 次の問いに答えましょう。

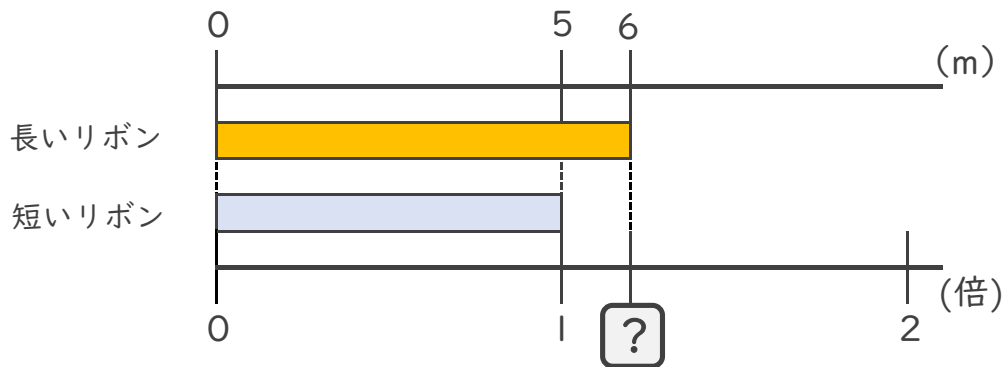
① 長いリボンは短いリボンの何倍ですか。



式： $12 \div 5 = 2.4$

答え： 2.4倍

② 長いリボンは短いリボンの何倍ですか。



式： $6 \div 5 = 1.2$

答え： 1.2倍

③ 5mのリボンと11mのリボンがあります。
長いリボンは短いリボンの何倍ですか。

式： $11 \div 5 = 2.2$

答え： 2.2倍

