



# 整数と小数7

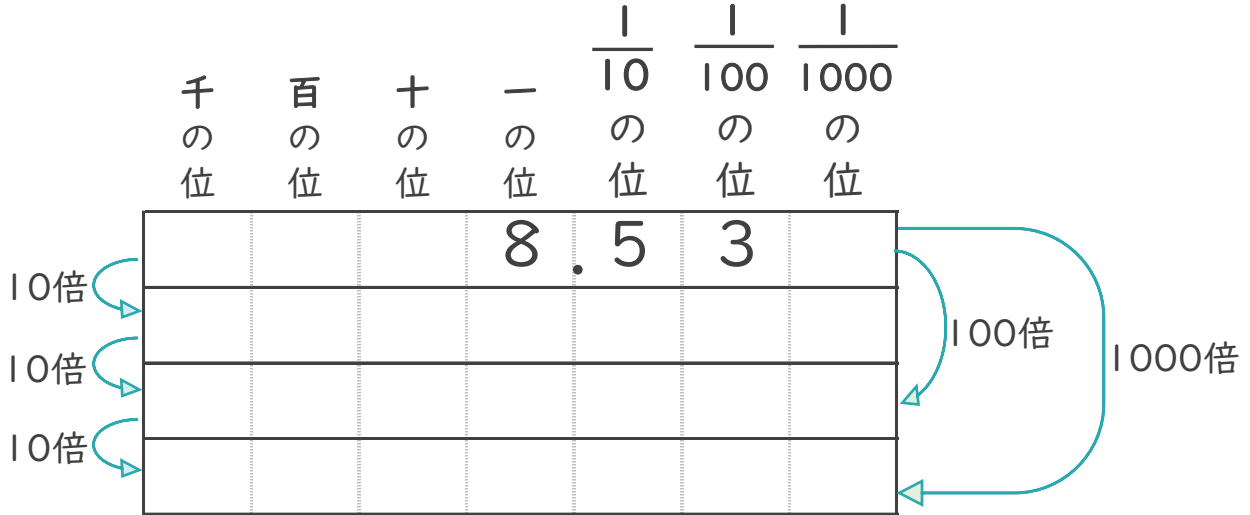
◎10倍、100倍などの位の移動



日にち：            月            日

名まえ \_\_\_\_\_

1 8.53を10倍、100倍、1000倍すると、どんな数になるでしょう。

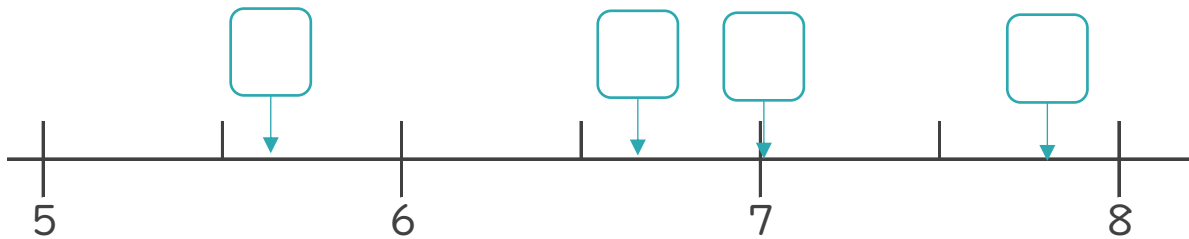


2 次のア～エの数について、次の問いに答えましょう。

ア 7.802            イ 6.67

ウ 5.628            エ 7.091

① 次の数直線の  にあてはまる数を、ア～エから書きましょう。



② いちばん大きい数はいくつですか。

答え： \_\_\_\_\_

③ いちばん小さい数はいくつですか。

答え： \_\_\_\_\_



# 整数と小数7

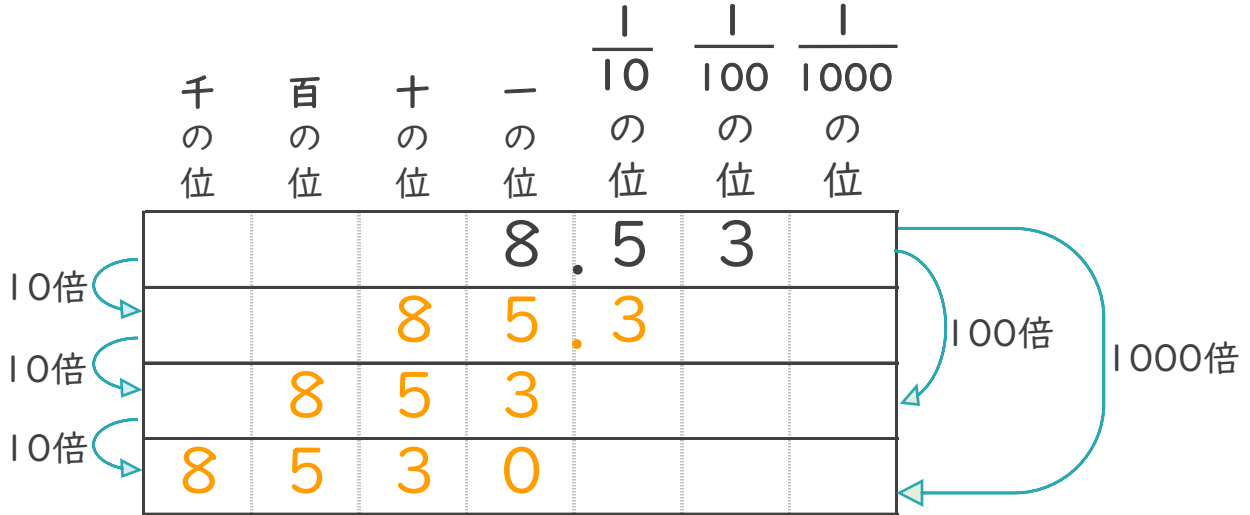
◎10倍, 100倍などの位の移動



日にち：            月            日

名まえ \_\_\_\_\_

1 8.53を10倍、100倍、1000倍すると、どんな数になるでしょう。

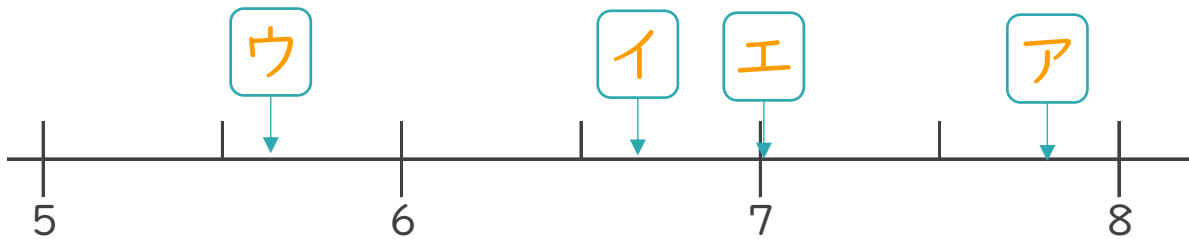


2 次のア～エの数について、次の問いに答えましょう。

ア 7.802            イ 6.67

ウ 5.628            エ 7.091

① 次の数直線の  にあてはまる数を、ア～エから書きましょう。



② いちばん大きい数はいくつですか。

答え：            **ア**

③ いちばん小さい数はいくつですか。

答え：            **ウ**

