

# 小数のかけ算 17

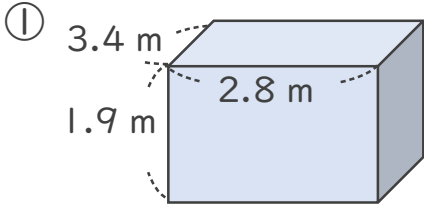
◎ 直方体の体積

12

日にち：            月            日

名まえ \_\_\_\_\_

・ 次の立体の体積は何  $m^3$  でしょうか。



式： \_\_\_\_\_

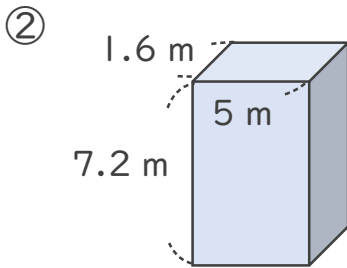
<筆算>

<筆算>

× \_\_\_\_\_

× \_\_\_\_\_

答え： \_\_\_\_\_



式： \_\_\_\_\_

<筆算>


<筆算>

× \_\_\_\_\_

× \_\_\_\_\_

答え： \_\_\_\_\_





# 小数のかけ算 17

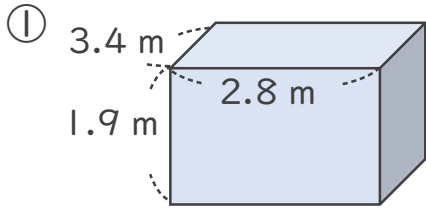
◎ 直方体の体積

12

日にち：            月            日

名まえ \_\_\_\_\_

・ 次の立体の体積は何  $m^3$  でしょうか。



式：  $3.4 \times 2.8 \times 1.9 = 18.088$

---

<筆算>

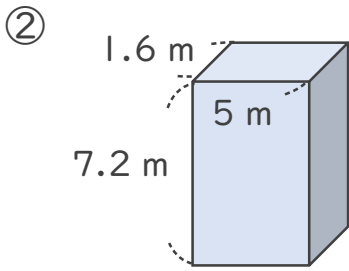
$$\begin{array}{r} 3.4 \\ \times 2.8 \\ \hline 272 \\ 68\phantom{0} \\ \hline 9.52 \end{array}$$

<筆算>

$$\begin{array}{r} 9.52 \\ \times 1.9 \\ \hline 8568 \\ 952\phantom{0} \\ \hline 18.088 \end{array}$$

答え：  $18.088 m^3$

---



式：  $1.6 \times 5 \times 7.2 = 57.6$

---

<筆算>

$$\begin{array}{r} 1.6 \\ \times 5 \\ \hline 8.0 \end{array}$$

<筆算>

$$\begin{array}{r} 8 \\ \times 7.2 \\ \hline 16 \\ 56\phantom{0} \\ \hline 57.6 \end{array}$$

答え：  $57.6 m^3$

---

