



小数のわり算 18

◎ あまりのあるわり算
(商が整数)




日にち： 月 日


名まえ _____

1 商は一の位まで求めて、あまりも出しましょう。


① $10.1 \div 2.4$



② $8.6 \div 2.2$



③ $93.3 \div 8.3$



④ $80.7 \div 3.6$



2 商が7より大きくなるのはどれですか。

① $7 \div 1.5$

② $7 \div 2$

③ $7 \div 0.73$

④ $7 \div 0.2$

答え： _____



小数のわり算 18

◎ あまりのあるわり算
(商が整数)

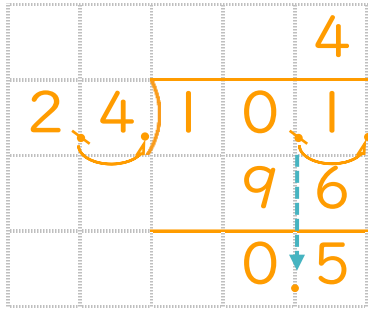
12

日にち： 月 日

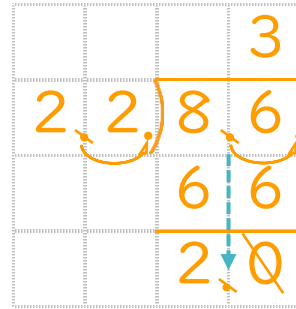
名まえ _____

1 商は一の位まで求めて、あまりも出しましょう。

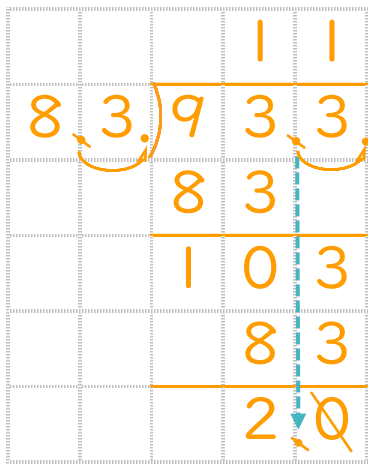
① $10.1 \div 2.4$



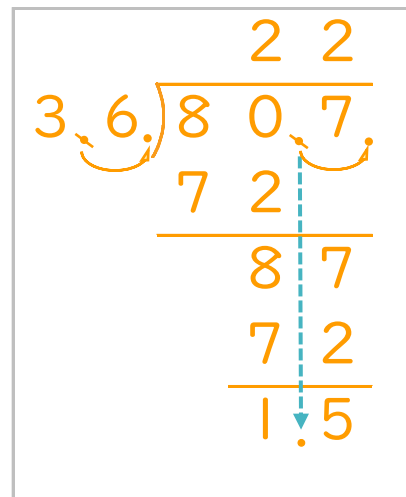
② $8.6 \div 2.2$



③ $93.3 \div 8.3$



④ $80.7 \div 3.6$



2 商が7より大きくなるのはどれですか。

① $7 \div 1.5$

② $7 \div 2$

③ $7 \div 0.73$

④ $7 \div 0.2$

答え： ③ と ④