

小数のわり算19

◎商を四捨五入して
概数で求める




日にち： 月 日

名まえ _____


1 商は四捨五入して、上から2桁のがい数で求めましょう。

(うすい枠は、しっかりなぞりましょう)

① $9.37 \div 5.4$



② $4.8 \div 3.3$



2 商が5より大きくなるのはどれですか？


- ① $5 \div 1.02$ ② $5 \div 0.4$ ③ $5 \div 2$ ④ $5 \div 0.9$

答え： _____

3 商が8より大きくなるのはどれですか？

- ① $8 \div 0.73$ ② $8 \div 2.1$ ③ $8 \div 3$ ④ $8 \div 0.4$

答え： _____



小数のわり算19

◎商を四捨五入して
概数で求める



日にち： 月 日

名まえ

1 商は四捨五入して、上から2桁のがい数で求めましょう。

(うすい枠は、しっかりなぞりましょう)

① $9.37 \div 5.4$

			1	7	3
5	4	9	3	7	0
		5	4		
		3	9	7	
		3	7	8	
			1	9	0
			1	6	2
				2	8

② $4.8 \div 3.3$

			1	4	5
3	3	4	8	0	0
		3	3		
		1	5	0	
		1	3	2	
			1	8	0
			1	6	5
				1	5

2 商が5より大きくなるのはどれですか？

- ① $5 \div 1.02$ ② $5 \div 0.4$ ③ $5 \div 2$ ④ $5 \div 0.9$

答え： ② と ④

3 商が8より大きくなるのはどれですか？

- ① $8 \div 0.73$ ② $8 \div 2.1$ ③ $8 \div 3$ ④ $8 \div 0.4$

答え： ① と ④