



分数のたし算とひき算 I

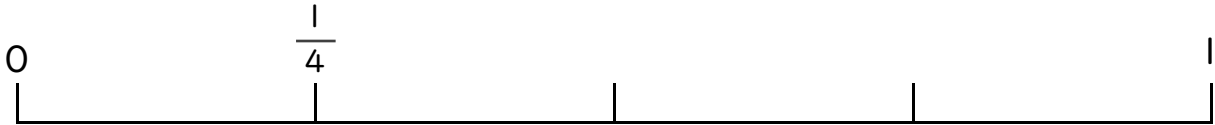
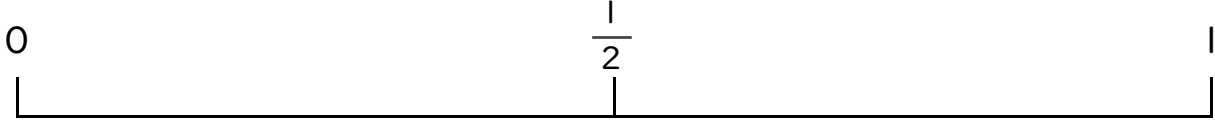
◎ 数直線と大きさの等しい分数



日にち： 月 日

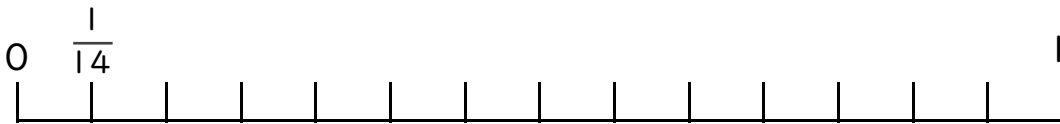
名まえ _____

1 $\frac{1}{2}$ と大きさの等しい分数を2つ見つけましょう。



答え _____

2 $\frac{6}{7}$ と大きさの等しい分数を2つ見つけましょう。



答え _____



分数のたし算とひき算 I

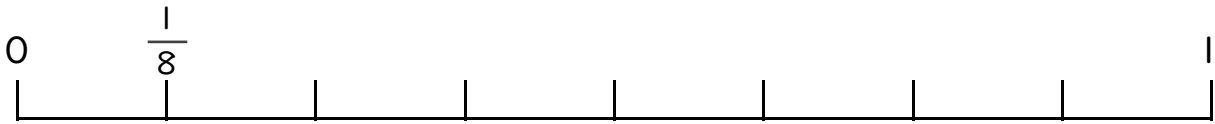
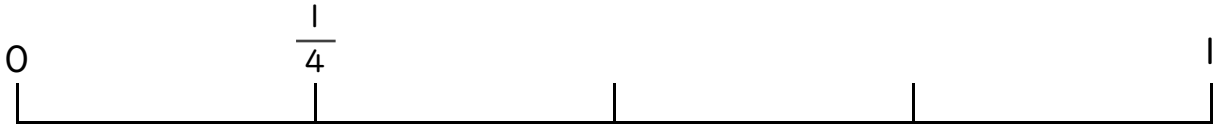
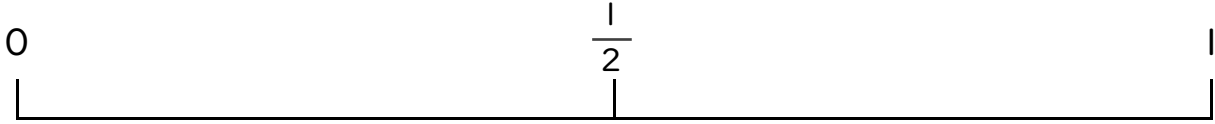
◎ 数直線と大きさの等しい分数



日にち： 月 日

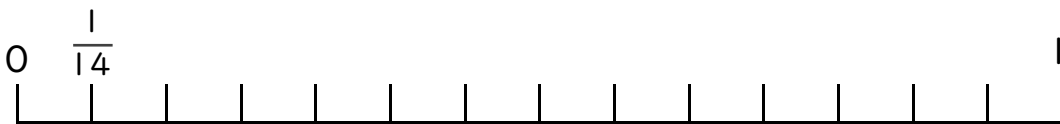
名まえ _____

1 $\frac{1}{2}$ と大きさの等しい分数を2つ見つけましょう。



答え $\frac{2}{4}$ と $\frac{4}{8}$

2 $\frac{6}{7}$ と大きさの等しい分数を2つ見つけましょう。



答え $\frac{12}{14}$ と $\frac{18}{21}$