



小数のかけ算 17

12

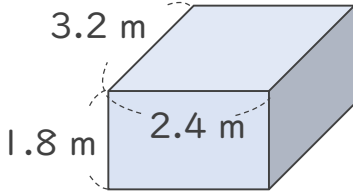
◎ 直方体の体積

日にち： 月 日

名まえ _____

・ 次の立体の体積は何 m^3 でしょうか。

①



式： _____

<筆算>

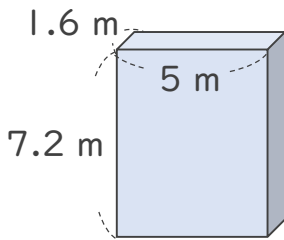
<筆算>

× _____

× _____

答え： _____

②



式： _____

<筆算>

<筆算>

× _____

× _____

答え： _____





小数のかけ算 17

12

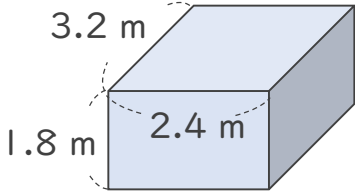
◎ 直方体の体積

日にち： 月 日

名まえ _____

・ 次の立体の体積は何 m^3 でしょうか。

①



式： $3.2 \times 2.4 \times 1.8 = 13.824$

<筆算>

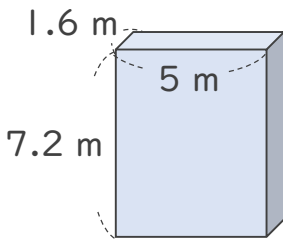
$$\begin{array}{r}
 3.2 \\
 \times 2.4 \\
 \hline
 128 \\
 64 \\
 \hline
 7.68
 \end{array}$$

<筆算>

$$\begin{array}{r}
 7.68 \\
 \times 1.8 \\
 \hline
 6144 \\
 768 \\
 \hline
 13.824
 \end{array}$$

答え： $13.824 m^3$

②



式： $1.6 \times 5 \times 7.2 = 57.6$

<筆算>

$$\begin{array}{r}
 1.6 \\
 \times 5 \\
 \hline
 8.0
 \end{array}$$

<筆算>

$$\begin{array}{r}
 8 \\
 \times 7.2 \\
 \hline
 16 \\
 56 \\
 \hline
 57.6
 \end{array}$$

答え： $57.6 m^3$

