



小数の倍2

◎ 短いリボンは長いリボンの何倍？

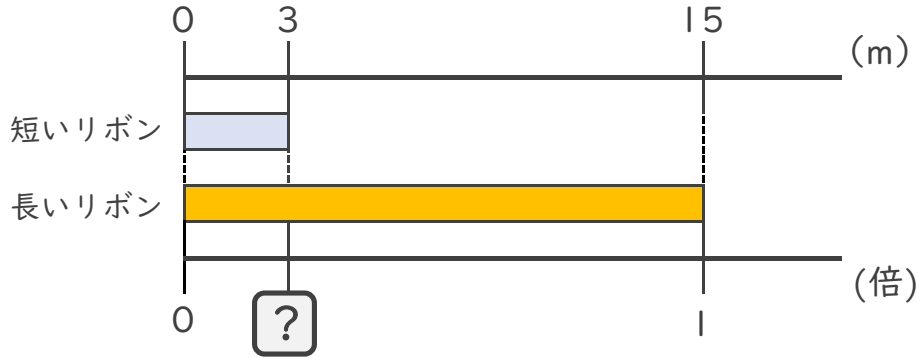


日にち： 月 日

名まえ _____

・ 次の問いに答えましょう。

① 短いリボンは長いリボンの何倍ですか。



式：

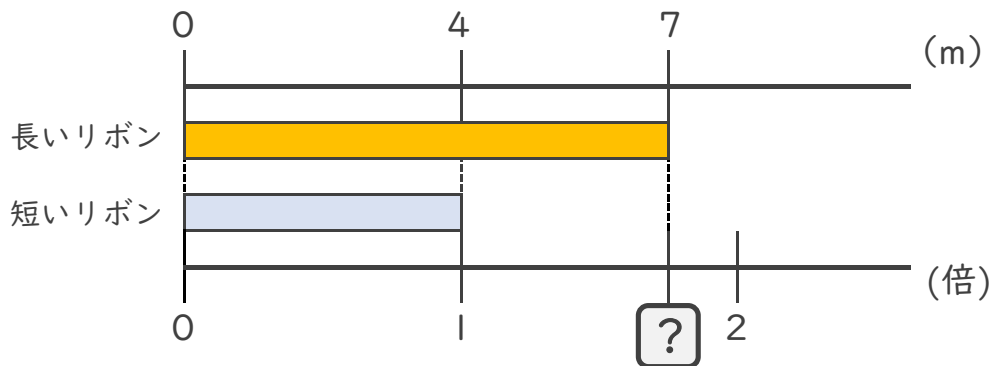
答え： _____

② 3mのリボンと4mのリボンがあります。
短いリボンは長いリボンの何倍ですか。

式：

答え： _____

③ 長いリボンは短いリボンの何倍ですか。



式：

答え： _____





小数の倍2

◎ 短いリボンは
長いリボンの何倍？

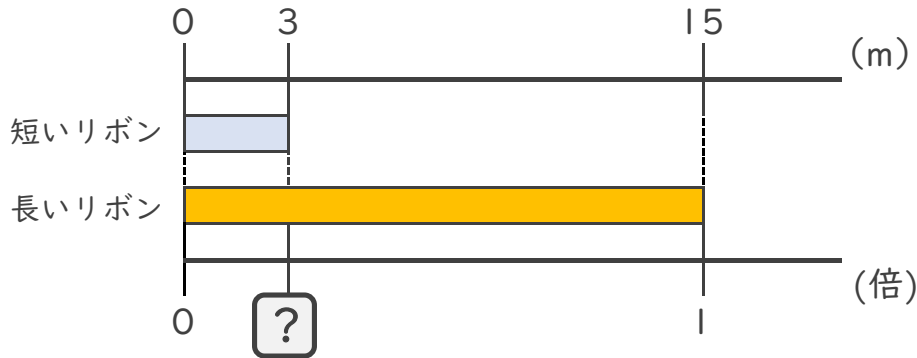


日にち： 月 日

名まえ _____

・ 次の問いに答えましょう。

① 短いリボンは長いリボンの何倍ですか。



式： $3 \div 15 = 0.2$

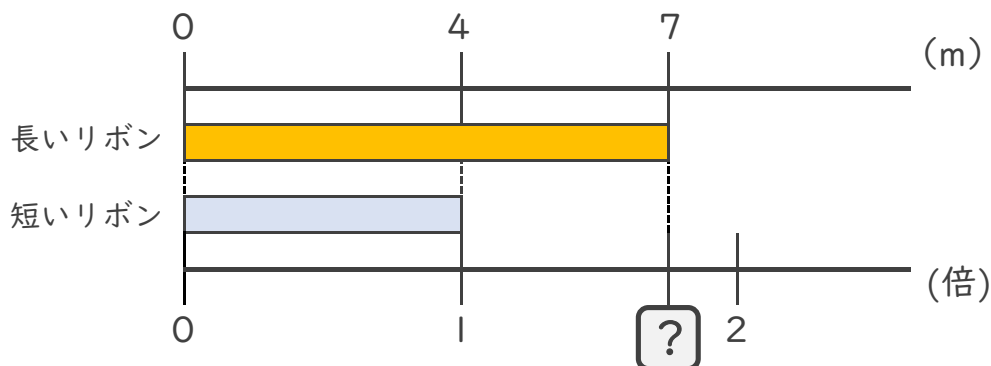
答え： 0.2倍

② 3mのリボンと4mのリボンがあります。
短いリボンは長いリボンの何倍ですか。

式： $3 \div 4 = 0.75$

答え： 0.75倍

③ 長いリボンは短いリボンの何倍ですか。



式： $7 \div 4 = 1.75$

答え： 1.75倍

