

# 小数の倍①

◎ 長いリボンは  
短いリボンの何倍？

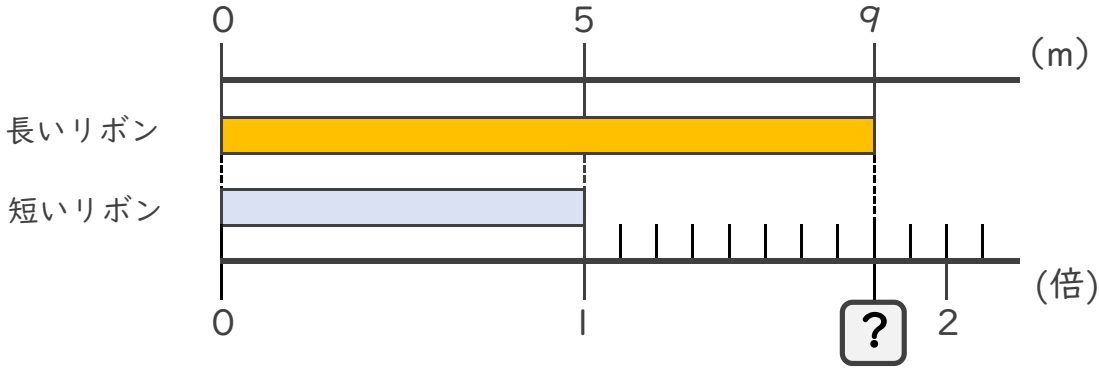


日にち：        月        日

名まえ \_\_\_\_\_

・ 次の問いに答えましょう。

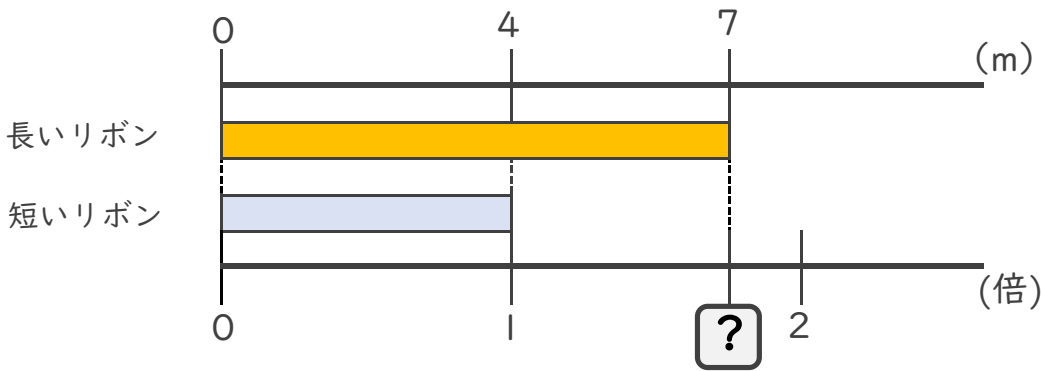
① 長いリボンは短いリボンの何倍でしょうか？



式：  $9 \div 5 =$

答え： \_\_\_\_\_

② 長いリボンは短いリボンの何倍でしょうか？



式：

答え： \_\_\_\_\_

③ 15mのリボンと27mのリボンがあります。  
長いリボンは短いリボンの何倍でしょうか？

式：

答え： \_\_\_\_\_





# 小数の倍①

◎ 長いリボンは  
短いリボンの何倍？

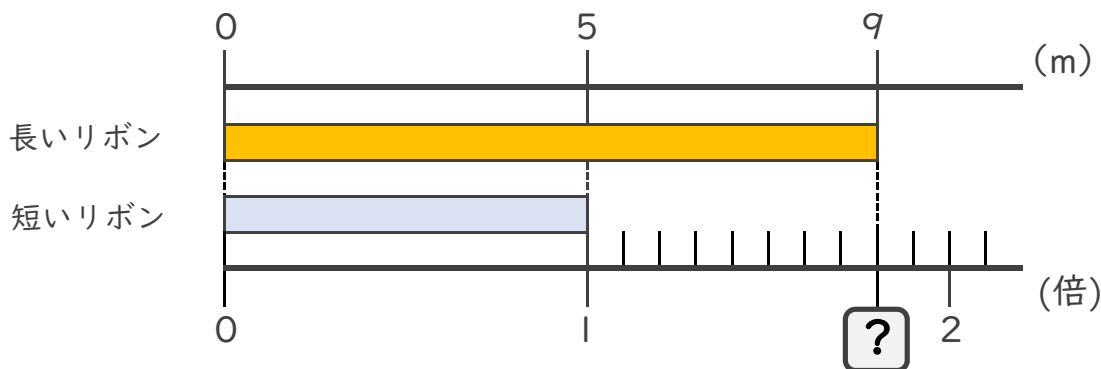


日にち：        月        日

名まえ \_\_\_\_\_

・ 次の問いに答えましょう。

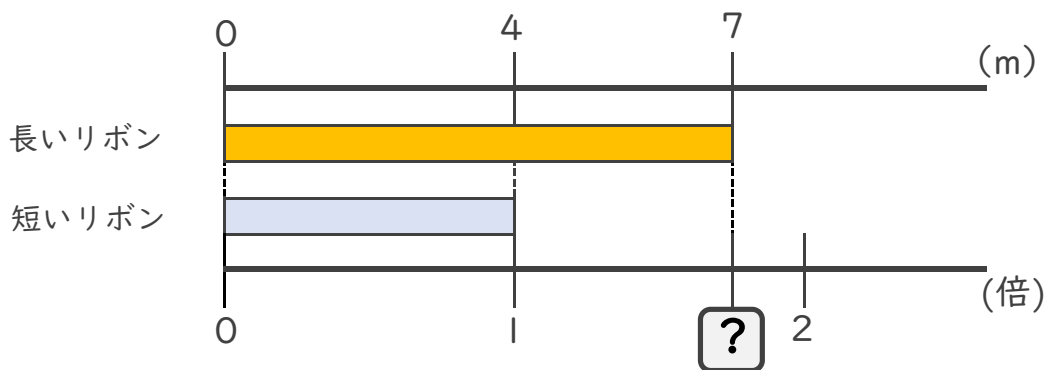
① 長いリボンは短いリボンの何倍でしょうか？



式：  $9 \div 5 = 1.8$

答え： 1.8倍

② 長いリボンは短いリボンの何倍でしょうか？



式：  $7 \div 4 = 1.75$

答え： 1.75倍

③ 15mのリボンと27mのリボンがあります。  
長いリボンは短いリボンの何倍でしょうか？

式：  $27 \div 15 = 1.8$

答え： 1.8倍

