



小数の倍①

◎ 長いリボンは
短いリボンの何倍？

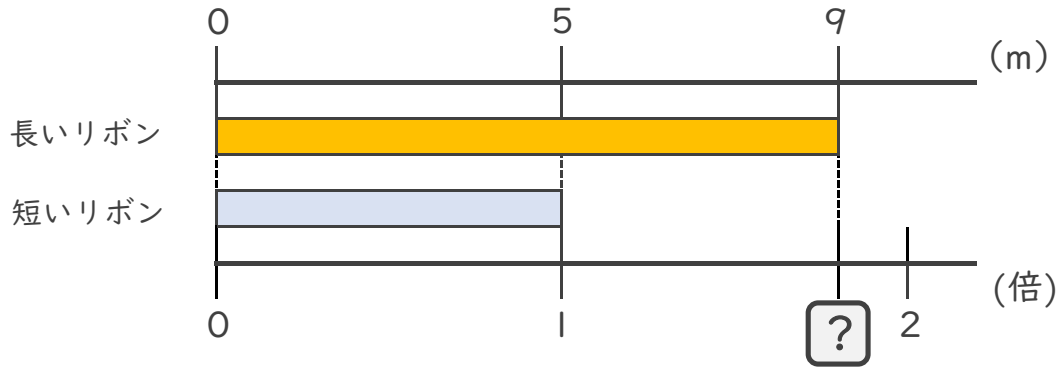


日にち： 月 日

名まえ _____

・ 次の問いに答えましょう。

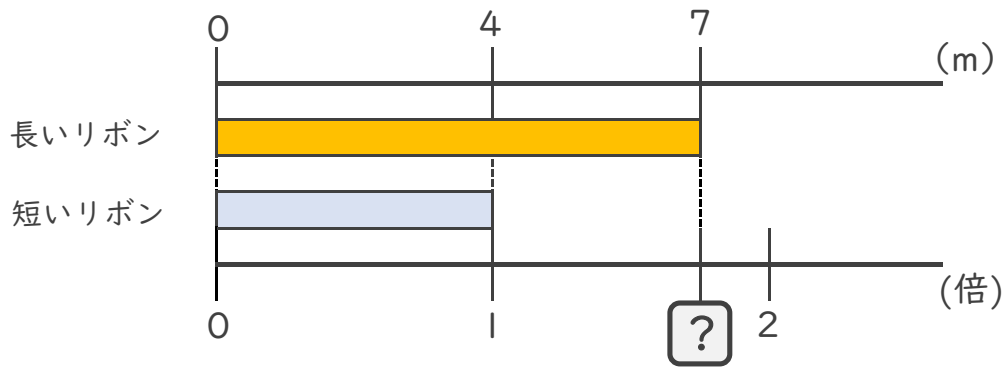
① 長いリボンは短いリボンの何倍ですか。



式：

答え： _____

② 長いリボンは短いリボンの何倍ですか。



式：

答え： _____

③ 15mのリボンと27mのリボンがあります。
長いリボンは短いリボンの何倍ですか。

式：

答え： _____





小数の倍①

◎ 長いリボンは
短いリボンの何倍？

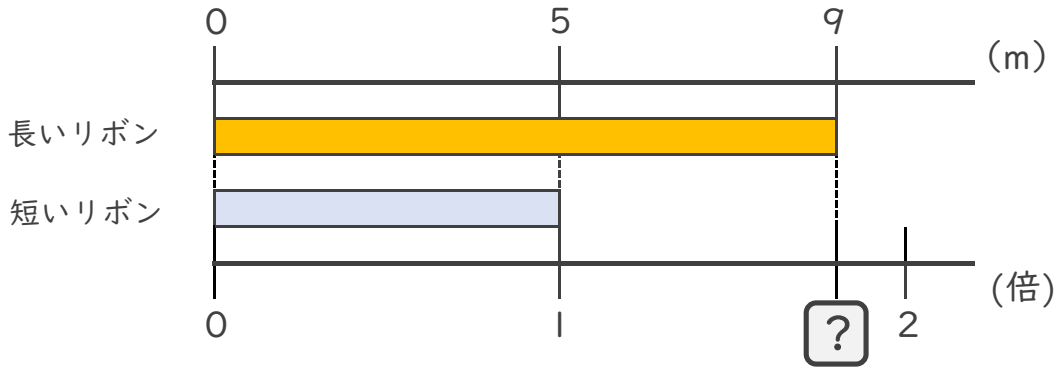


日にち： 月 日

名まえ _____

・ 次の問いに答えましょう。

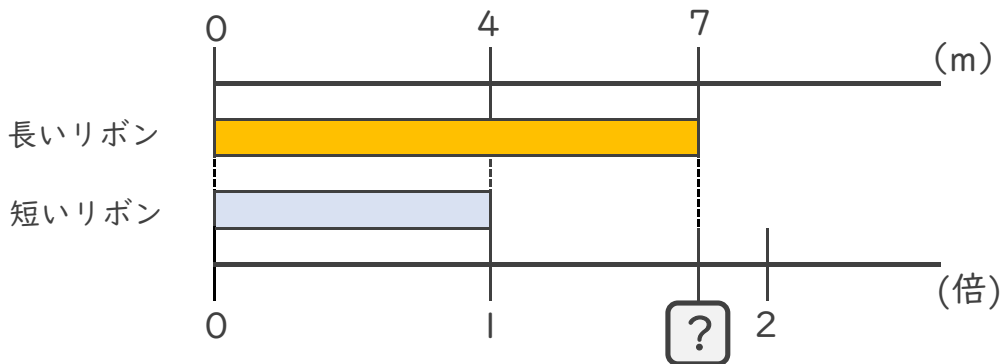
① 長いリボンは短いリボンの何倍ですか。



式： $9 \div 5 = 1.8$

答え： 1.8倍

② 長いリボンは短いリボンの何倍ですか。



式： $7 \div 4 = 1.75$

答え： 1.75倍

③ 15mのリボンと27mのリボンがあります。
長いリボンは短いリボンの何倍ですか。

式： $27 \div 15 = 1.8$

答え： 1.8倍

