



小数のかけ算 16

◎ 長方形の面積

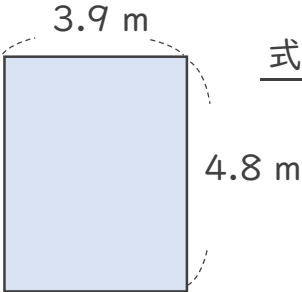


日にち： 月 日

名まえ _____

1 次の長方形の面積は何㎡でしょうか。

①



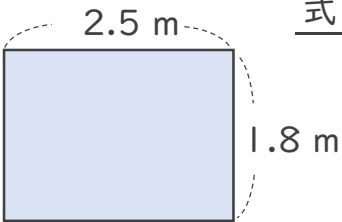
式： _____

<筆算>

×

答え： _____

②



式： _____

<筆算>

×

答え： _____

2 積が5より大きくなるもの、同じもの、小さくなるものを選び、番号を書きましょう。

- ① 5×2.1
- ② 5×0.99
- ③ 5×1.2
- ④ 5×1
- ⑤ 5×0.7

大きくなるもの： _____

小さくなるもの： _____

同じもの： _____





小数のかけ算 16

◎ 長方形の面積

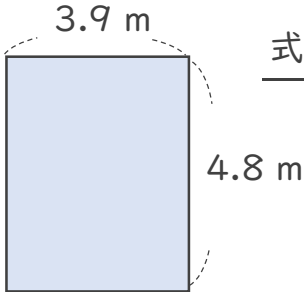


日にち： 月 日

名まえ _____

1 次の長方形の面積は何㎡でしょうか。

①



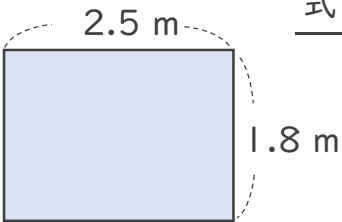
式： $4.8 \times 3.9 = 18.72$

答え： 18.72 m^2

<筆算>

$$\begin{array}{r}
 4.8 \\
 \times 3.9 \\
 \hline
 432 \\
 144 \\
 \hline
 18.72
 \end{array}$$

②



式： $1.8 \times 2.5 = 4.5$

答え： 4.5 m^2

<筆算>

$$\begin{array}{r}
 1.8 \\
 \times 2.5 \\
 \hline
 90 \\
 36 \\
 \hline
 4.50
 \end{array}$$

2 積が5より大きくなるもの、同じもの、小さくなるものを選び、番号を書きましょう。

- ① 5×2.1 ② 5×0.99 ③ 5×1.2 ④ 5×1 ⑤ 5×0.7

大きくなるもの： ① と ③

小さくなるもの： ② と ⑤

同じもの： ④

