



整数と小数7

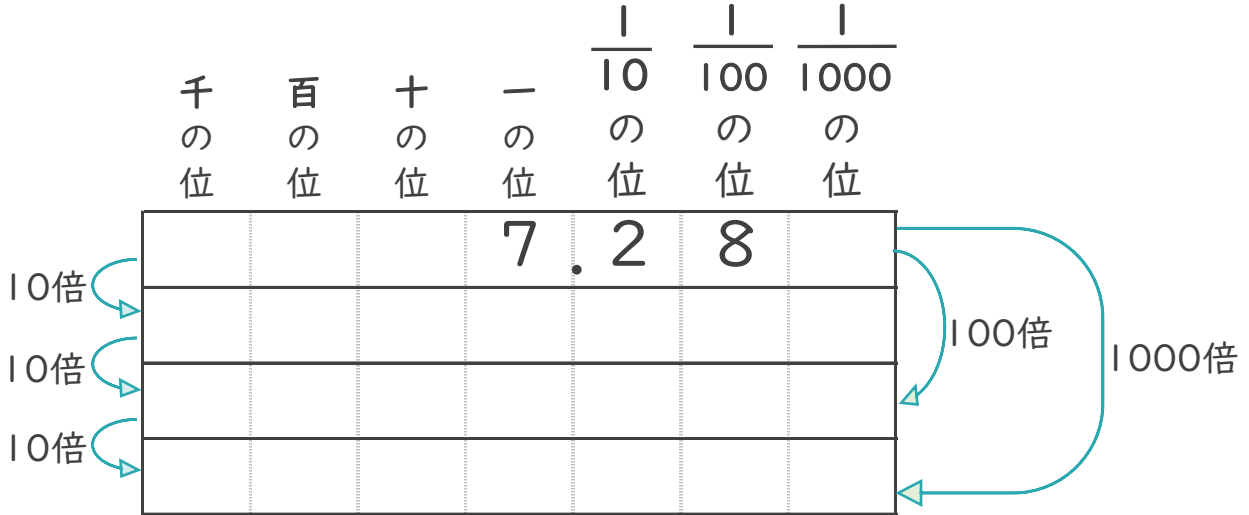
◎10倍, 100倍などの位の移動



日にち： 月 日

名まえ _____

1 7.28を10倍、100倍、1000倍すると、どんな数になるでしょう。

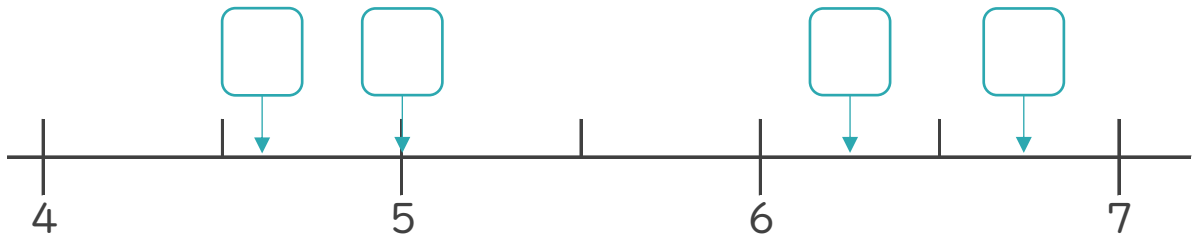


2 次のア～エの数について、次の問いに答えましょう。

ア 5.01 イ 6.258

ウ 4.617 エ 6.734

① 次の数直線の にあてはまる数を、ア～エから書きましょう。



② いちばん大きい数はいくつですか。 答え： _____

③ いちばん6に近い数はいくつですか。 答え： _____



整数と小数7

◎10倍, 100倍などの位の移動



日にち： 月 日

名まえ _____

1 7.28を10倍、100倍、1000倍すると、どんな数になるでしょう。

	千 の 位	百 の 位	十 の 位	一 の 位	$\frac{1}{10}$ の 位	$\frac{1}{100}$ の 位	$\frac{1}{1000}$ の 位
				7	.	2	8
10倍			7	2	.	8	
10倍		7	2	8			
10倍	7	2	8	0			

100倍 (from 7.28 to 728)

1000倍 (from 7.28 to 7280)

2 次のア～エの数について、次の問いに答えましょう。

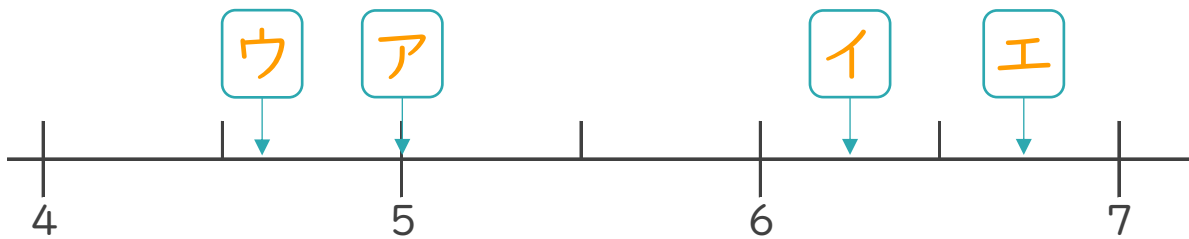
ア 5.01

イ 6.258

ウ 4.617

エ 6.734

① 次の数直線の にあてはまる数を、ア～エから書きましょう。



② いちばん大きい数はいくつですか。

答え： エ

③ いちばん6に近い数はいくつですか。

答え： イ