



# 小数のかけ算 17

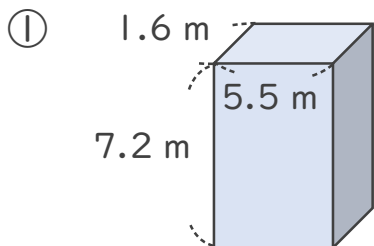
## ◎ 直方体の体積

# 13

日にち：        月        日

名まえ \_\_\_\_\_

・ 次の立体の体積は何  $m^3$  でしょうか。



<筆算>

× \_\_\_\_\_

式：

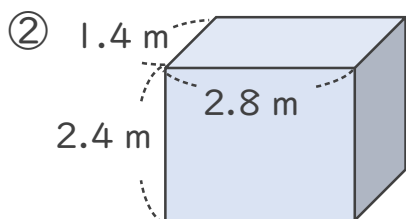
\_\_\_\_\_

<筆算>

× \_\_\_\_\_

答え：

\_\_\_\_\_



<筆算>

× \_\_\_\_\_

式：

\_\_\_\_\_

<筆算>

× \_\_\_\_\_

答え：

\_\_\_\_\_





# 小数のかけ算 17

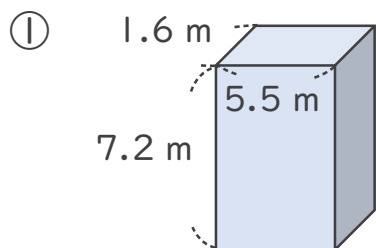
◎ 直方体の体積

13

日にち：            月            日

名まえ \_\_\_\_\_

・ 次の立体の体積は何  $m^3$  でしょうか。



式：  $1.6 \times 5.5 \times 7.2 = 63.36$

---

<筆算>

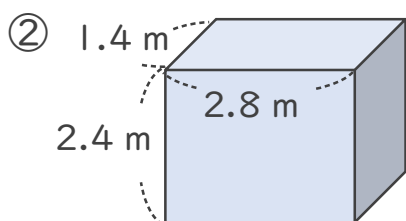
$$\begin{array}{r} 1.6 \\ \times 5.5 \\ \hline 80 \\ 80 \\ \hline 8.80 \end{array}$$

<筆算>

$$\begin{array}{r} 8.8 \\ \times 7.2 \\ \hline 176 \\ 616 \\ \hline 63.36 \end{array}$$

答え：  $63.36 m^3$

---



式：  $1.4 \times 2.8 \times 2.4 = 9.408$

---

<筆算>

$$\begin{array}{r} 1.4 \\ \times 2.8 \\ \hline 112 \\ 28 \\ \hline 3.92 \end{array}$$

<筆算>

$$\begin{array}{r} 3.92 \\ \times 2.4 \\ \hline 1568 \\ 784 \\ \hline 9.408 \end{array}$$

答え：  $9.408 m^3$

---

