

# 小数のかけ算 16

## ㊦ 長方形の面積



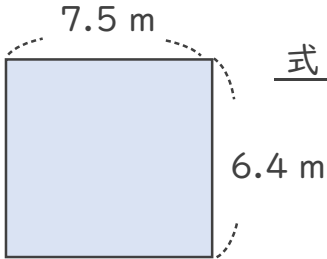
日にち：            月            日

名まえ \_\_\_\_\_

1. 次の長方形の面積は何㎡でしょうか。

①

<筆算>



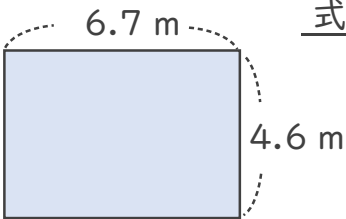
式： \_\_\_\_\_

× \_\_\_\_\_

答え： \_\_\_\_\_

②

<筆算>



式： \_\_\_\_\_

× \_\_\_\_\_

答え： \_\_\_\_\_

2. 積が8より大きくなるもの、同じもの、小さくなるものを選び、番号を書きましょう。


- ①  $8 \times 1.1$     ②  $8 \times 1$     ③  $8 \times 1.99$     ④  $8 \times 0.9$     ⑤  $8 \times 0.8$

大きくなるもの： \_\_\_\_\_

小さくなるもの： \_\_\_\_\_

同じもの： \_\_\_\_\_





# 小数のかけ算 16

◎ 長方形の面積



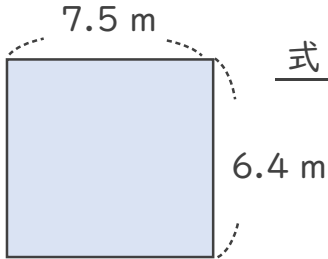
日にち：            月            日

名まえ \_\_\_\_\_

1. 次の長方形の面積は何㎡でしょうか。

①

<筆算>



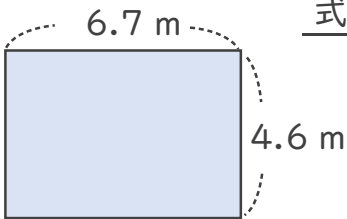
式：  $6.4 \times 7.5 = 48$

$$\begin{array}{r} 6.4 \\ \times 7.5 \\ \hline 320 \\ 448 \\ \hline 48.00 \end{array}$$

答え：  $48 \text{ m}^2$

②

<筆算>



式：  $4.6 \times 6.7 = 30.82$

$$\begin{array}{r} 4.6 \\ \times 6.7 \\ \hline 322 \\ 276 \\ \hline 30.82 \end{array}$$

答え：  $30.82 \text{ m}^2$

2. 積が8より大きくなるもの、同じもの、小さくなるものを選び、番号を書きましょう。

- ①  $8 \times 1.1$     ②  $8 \times 1$     ③  $8 \times 1.99$     ④  $8 \times 0.9$     ⑤  $8 \times 0.8$

大きくなるもの： ① と ③

小さくなるもの： ④ と ⑤

同じもの： ②

