

# 小数のわり算 18

㊦ あまりのあるわり算  
(商が整数)




日にち：            月            日

名まえ \_\_\_\_\_


1 商は一の位まで求めて、あまりも出しましょう。

(うすい枠は、しっかりなぞりましょう)

①  $9.1 \div 2.7$




②  $37.6 \div 8.4$



③  $78.1 \div 2.5$



④  $98.9 \div 6.1$



2 商が4より大きくなるのはどれですか？


①  $4 \div 1.4$

②  $4 \div 3$

③  $4 \div 0.02$

④  $4 \div 0.5$

答え： \_\_\_\_\_



# 小数のわり算 18

◎ あまりのあるわり算  
(商が整数)



日にち：            月            日

名まえ \_\_\_\_\_

1 商は一の位まで求めて、あまりも出しましょう。

(うすい枠は、しっかりなぞりましょう)

①  $9.1 \div 2.7$

			3
2.7	)	9.1	
		81	
		10	

②  $37.6 \div 8.4$

			4
8.4	)	37.6	
		336	
		40	

③  $78.1 \div 2.5$

			31
2.5	)	78.1	
		75	
		31	
		25	
		06	

④  $98.9 \div 6.1$

			16
6.1	)	98.9	
		61	
		379	
		366	
		13	

2 商が4より大きくなるのはどれですか？

①  $4 \div 1.4$

②  $4 \div 3$

③  $4 \div 0.02$

④  $4 \div 0.5$

答え：    ③ と ④