



小数のわり算 18

㊦ あまりのあるわり算
(商が整数)




日にち： 月 日


名まえ _____

1 商は一の位まで求めて、あまりも出しましょう。


① $9.1 \div 2.7$



② $37.6 \div 8.4$



③ $78.1 \div 2.5$



④ $98.9 \div 6.1$



2 商が4より大きくなるのはどれですか。

① $4 \div 1.4$

② $4 \div 3$

③ $4 \div 0.02$

④ $4 \div 0.5$

答え： _____



小数のわり算 18

◎ あまりのあるわり算
(商が整数)

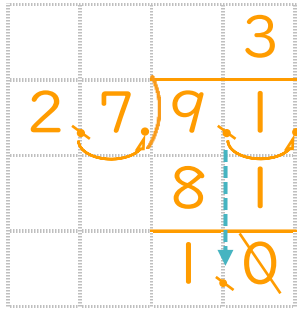


日にち： 月 日

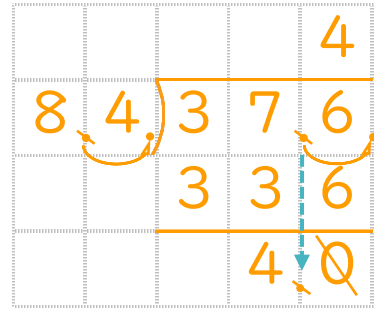
名まえ _____

1 商は一の位まで求めて、あまりも出しましょう。

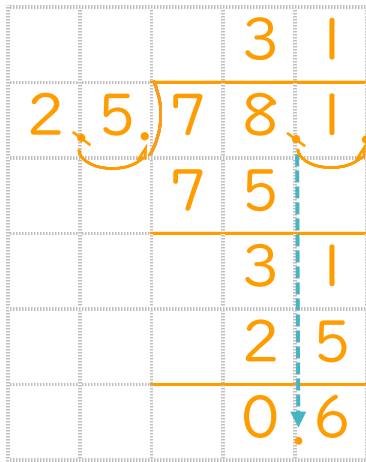
① $9.1 \div 2.7$



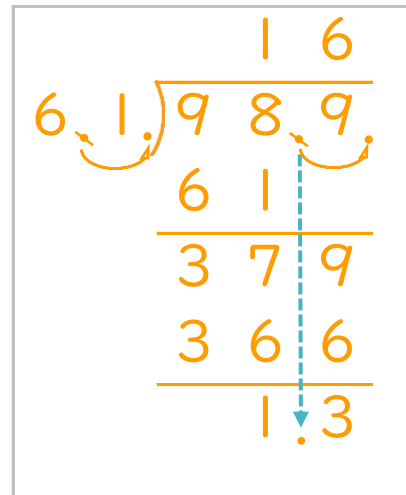
② $37.6 \div 8.4$



③ $78.1 \div 2.5$



④ $98.9 \div 6.1$



2 商が4より大きくなるのはどれですか。

① $4 \div 1.4$

② $4 \div 3$

③ $4 \div 0.02$

④ $4 \div 0.5$

答え： ③ と ④