



偶数と奇数
倍数と約数 3

● 公倍数と最小公倍数
(数直線あり)

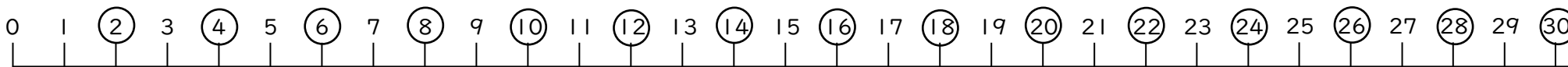
13

日にち： 月 日

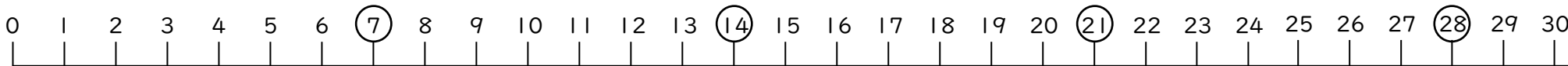
名まえ _____

1 図を見て次の問いに答えましょう。

2の倍数



7の倍数



① 2と7の公倍数を小さいほうから2つ書きましょう。 答え (,)

② 2と7の最小公倍数を書きましょう。 答え ()

2 5の倍数を小さい方から順に10個かきましよう。



偶数と奇数
倍数と約数 3

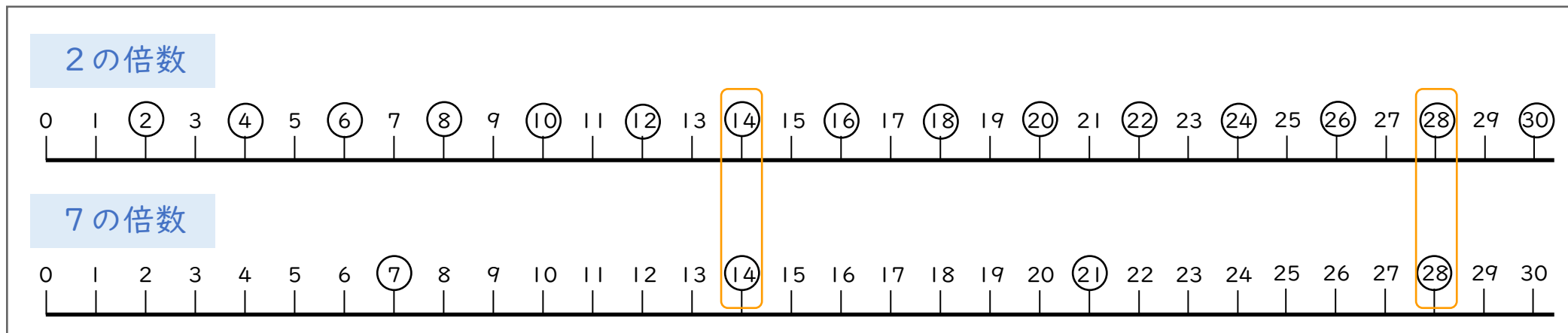
● 公倍数と最小公倍数
(数直線あり)

13

日にち： 月 日

名まえ _____

1 図を見て次の問いに答えましょう。



① 2と7の公倍数を小さいほうから2つ書きましょう。 答え (14 , 28)

② 2と7の最小公倍数を書きましょう。 答え (14)

2 5の倍数を小さい方から順に10個かきましよう。

5, 10, 15, 20, 25, 30, 35, 40, 45, 50

