

# 図形の角 5

## 四角形の内角

13

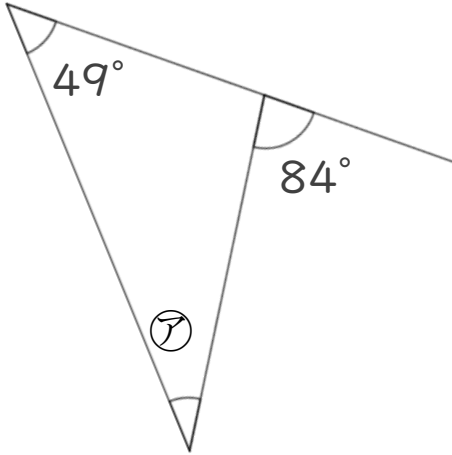
日にち：            月            日

名まえ \_\_\_\_\_

・次の図で、㉗～㉙の角度は何度ですか。計算で求めましょう。

①

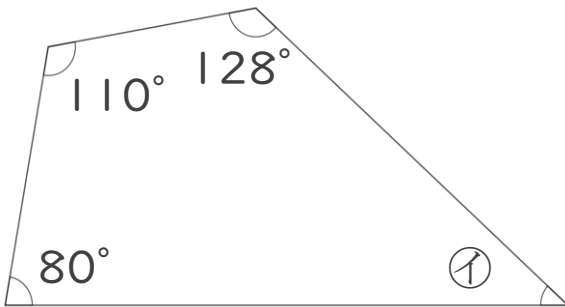
㉗ =



答え： \_\_\_\_\_

②

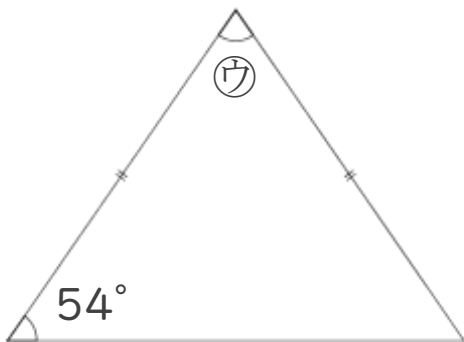
㉘ =




答え： \_\_\_\_\_

③

㉙ =



答え： \_\_\_\_\_



# 図形の角 5

## 四角形の内角

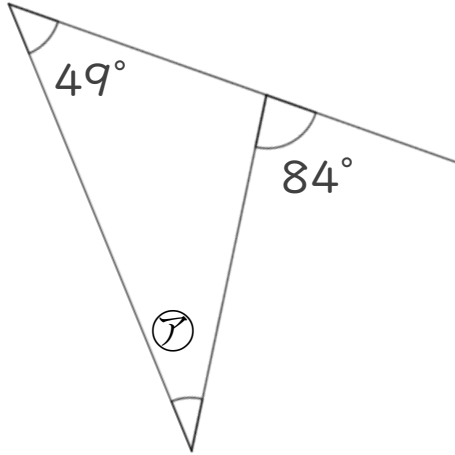
13

日にち：            月            日

名まえ \_\_\_\_\_

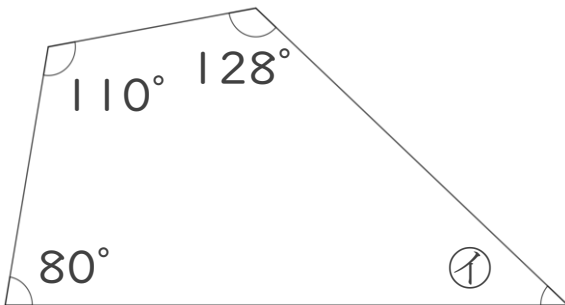
・次の図で、㉠～㉣の角度は何度ですか。計算で求めましょう。

①  $\text{㉠} = 84 - 49$   
 $= 35$



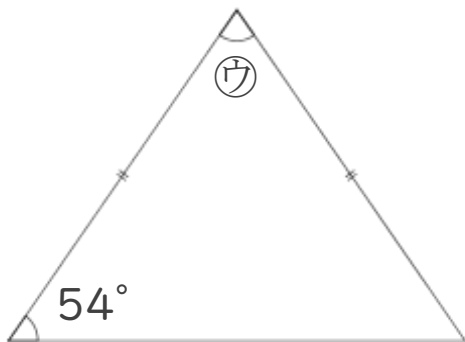
答え： 35°

②  $\text{㉠} = 360 - (80 + 110 + 128)$   
 $= 360 - 318$   
 $= 42$



答え： 42°

③  $\text{㉣} = 180 - 54 \times 2$   
 $= 180 - 108$   
 $= 72$



答え： 72°

