



図形の角 10

◎ 多角形の中の
三角形の数

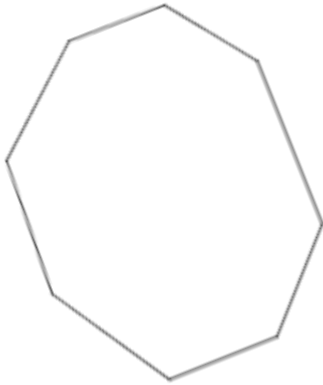
13

日にち： 月 日

名まえ _____

1 次の多角形の角の大きさの和を求めましょう。

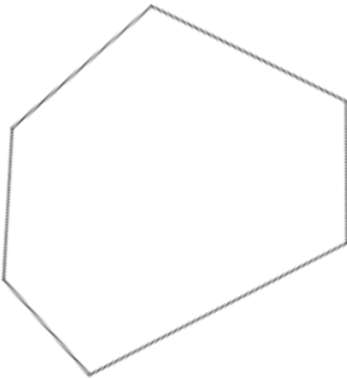
①



式：

答え： _____

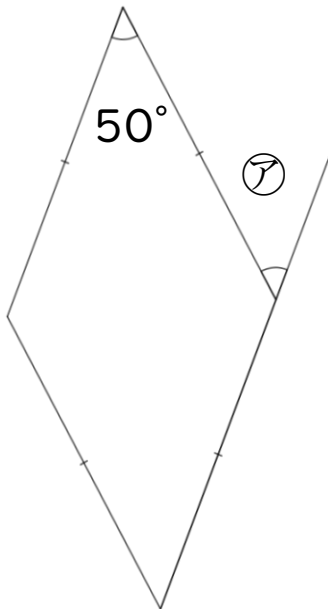
②



式：

答え： _____

2 ㊦の角度は何度ですか。計算で求めましょう。



㊦ =

答え： _____



図形の角 10

● 多角形の中の
三角形の数

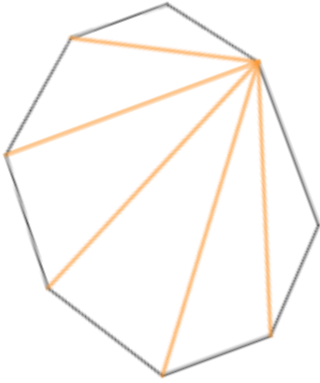
13

日にち： 月 日

名まえ _____

1 次の多角形の角の大きさの和を求めましょう。

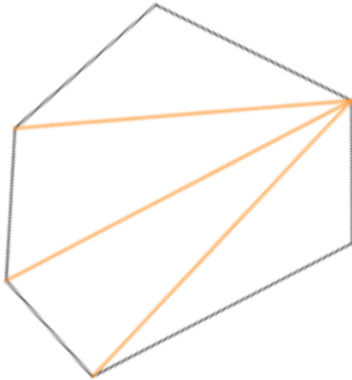
①



$$\text{式： } 180 \times 6 = 1080$$

$$\text{答え： } \underline{1080^\circ}$$

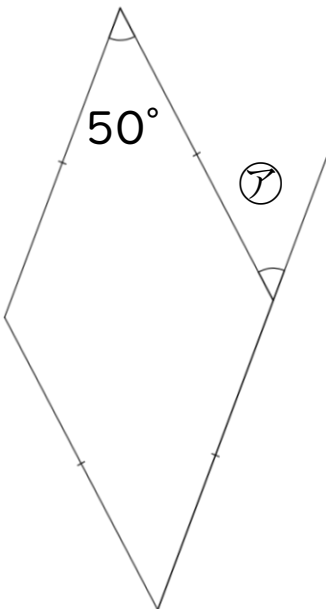
②



$$\text{式： } 180 \times 4 = 720$$

$$\text{答え： } \underline{720^\circ}$$

2 ㉞の角度は何度ですか。計算で求めましょう。



$$\text{㉞} = 50$$

$$\text{答え： } \underline{50^\circ}$$