

分数のたし算とひき算 I  
 ◎ 数直線と大きさの等しい分数

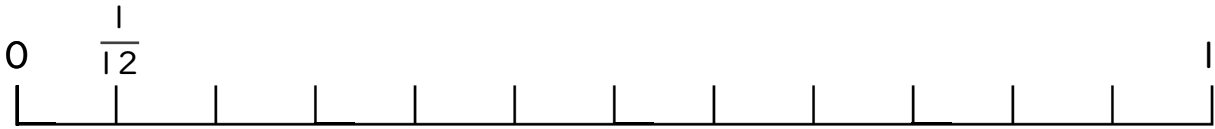
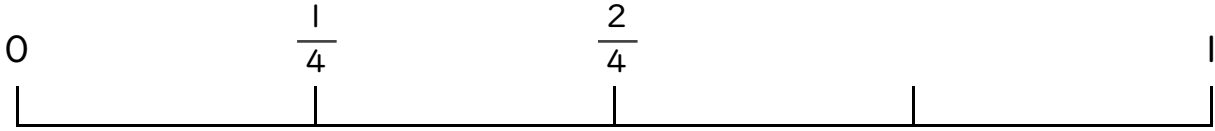


日にち：            月            日

名まえ

---

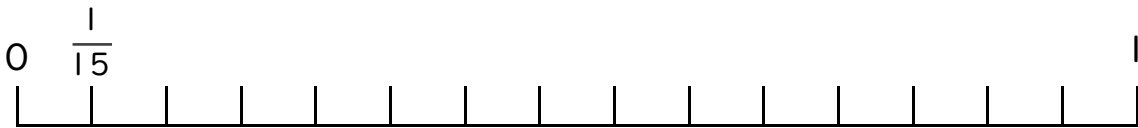
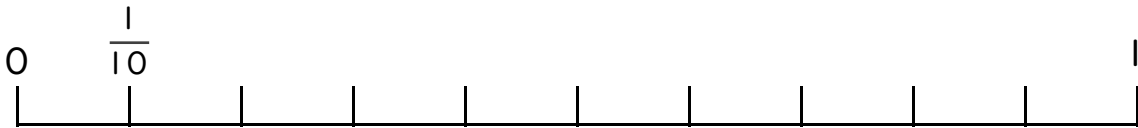
1  $\frac{2}{4}$  と大きさの等しい分数を2つ見つけましょう。



答え


---

2  $\frac{2}{5}$  と大きさの等しい分数を2つ見つけましょう。



答え

---



# 分数のたし算とひき算 ①

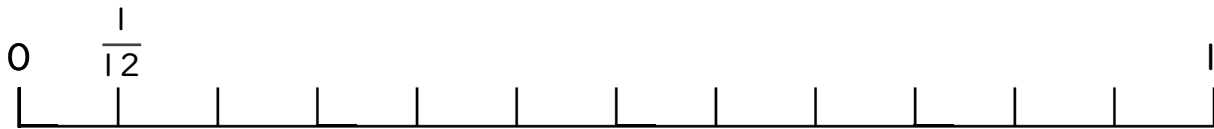
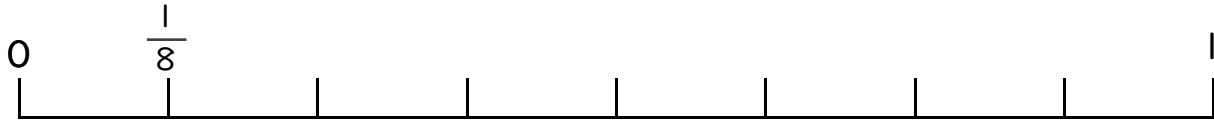
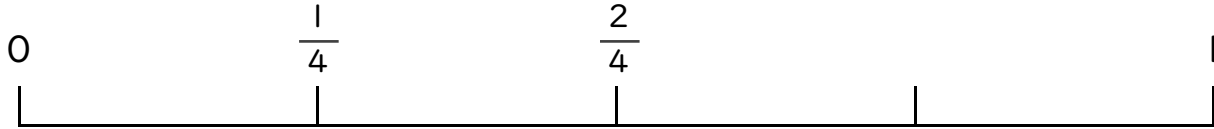
◎数直線と大きさの等しい分数



日にち：            月            日

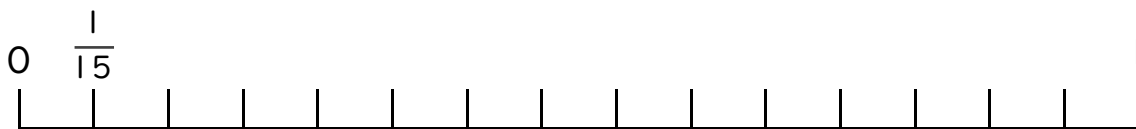
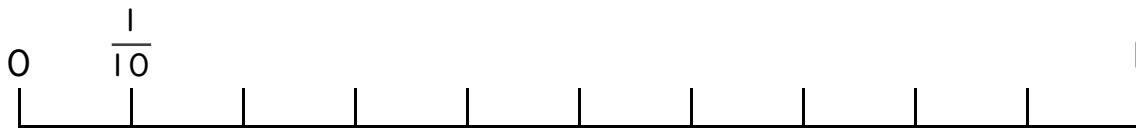
名まえ \_\_\_\_\_

1  $\frac{2}{4}$  と大きさの等しい分数を2つ見つけましょう。



答え  $\frac{4}{8}$  と  $\frac{6}{12}$

2  $\frac{2}{5}$  と大きさの等しい分数を2つ見つけましょう。



答え  $\frac{4}{10}$  と  $\frac{6}{15}$

