



小数の倍2

◎ 短いリボンは
長いリボンの何倍？

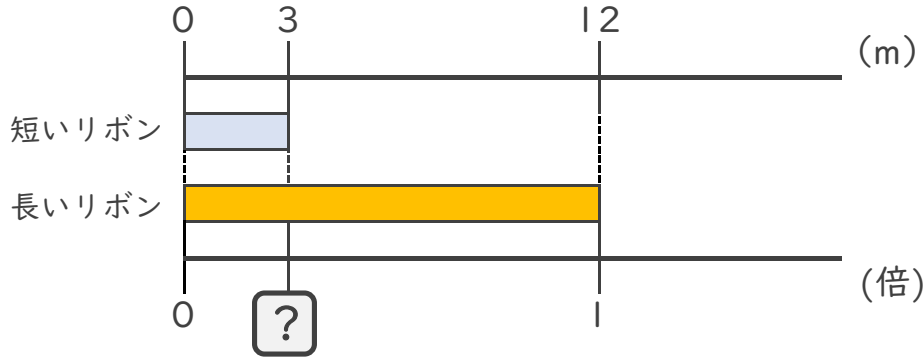


日にち： 月 日

名まえ _____

・ 次の問いに答えましょう。

① 短いリボンは長いリボンの何倍ですか。



式：

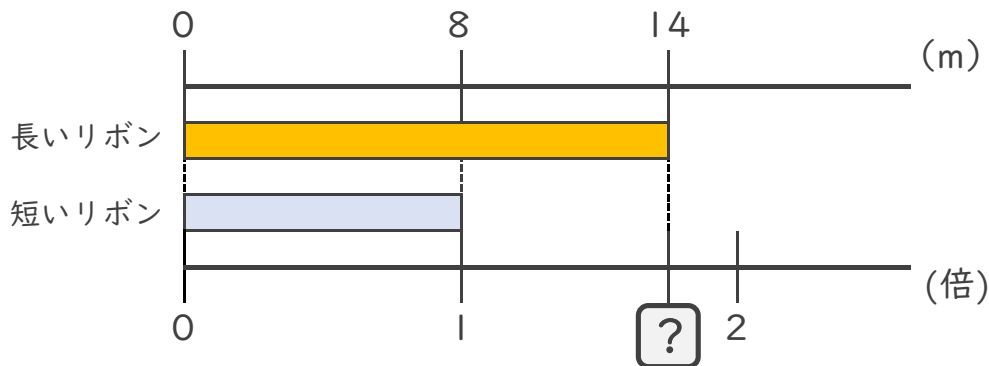
答え： _____

② 4mのリボンと5mのリボンがあります。
短いリボンは長いリボンの何倍ですか。

式：

答え： _____

③ 長いリボンは短いリボンの何倍ですか。



式：

答え： _____





小数の倍2

◎ 短いリボンは長いリボンの何倍？

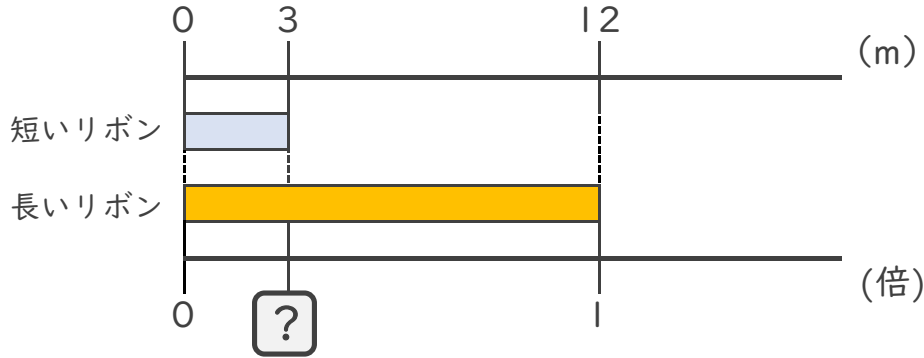


日にち： 月 日

名まえ

・ 次の問いに答えましょう。

① 短いリボンは長いリボンの何倍ですか。



式： $3 \div 12 = 0.25$

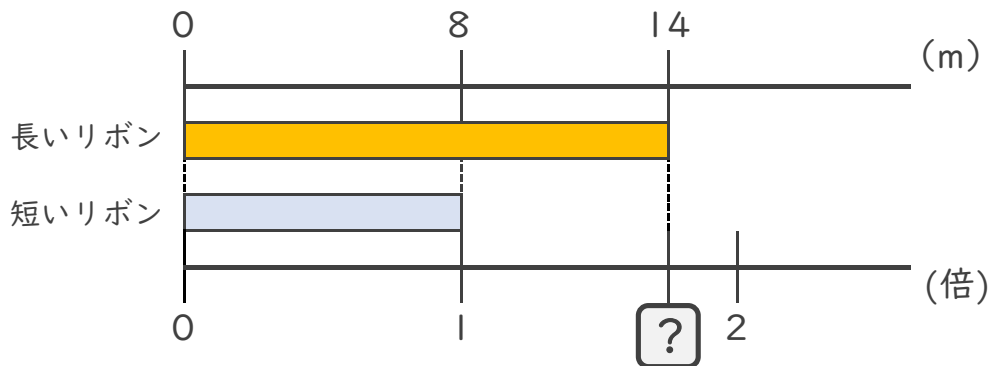
答え： 0.25倍

② 4mのリボンと5mのリボンがあります。
短いリボンは長いリボンの何倍ですか。

式： $4 \div 5 = 0.8$

答え： 0.8倍

③ 長いリボンは短いリボンの何倍ですか。



式： $14 \div 8 = 1.75$

答え： 1.75倍

