

小数の倍①

◎ 長いリボンは
短いリボンの何倍？

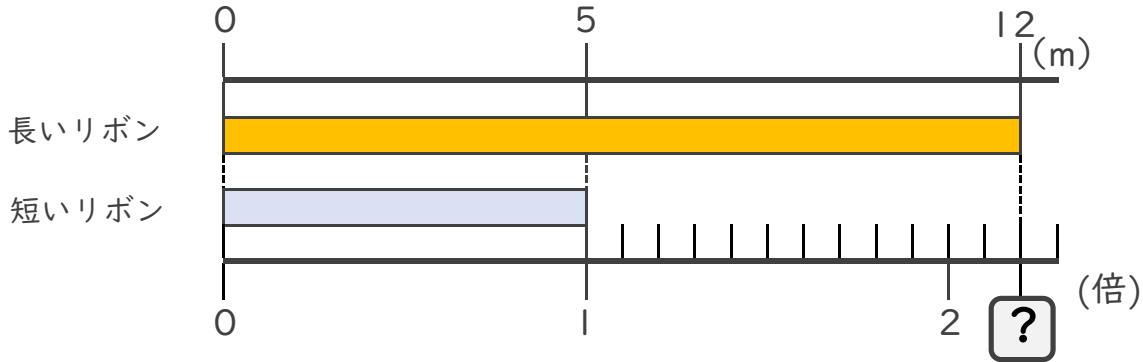


日にち： 月 日

名まえ _____

・ 次の問いに答えましょう。

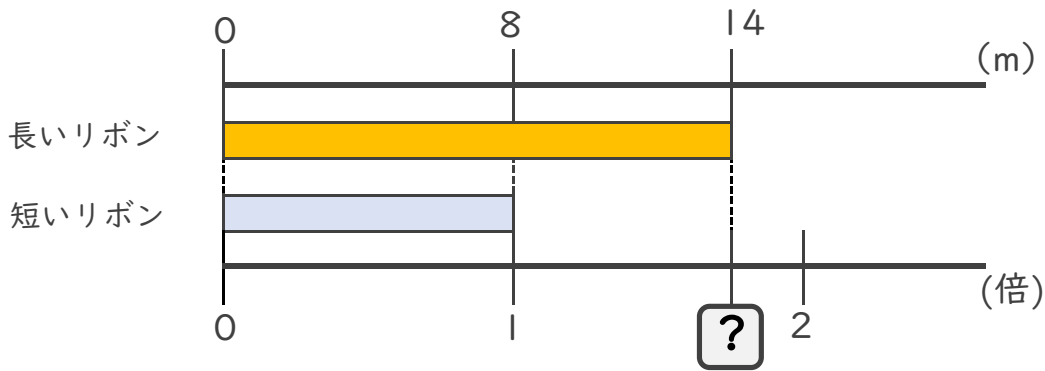
① 長いリボンは短いリボンの何倍でしょうか？



式： $12 \div 5 =$

答え： _____

② 長いリボンは短いリボンの何倍でしょうか？



式：


答え： _____

③ 12mのリボンと15mのリボンがあります。
長いリボンは短いリボンの何倍でしょうか？

式：

答え： _____





小数の倍①

◎ 長いリボンは
短いリボンの何倍？

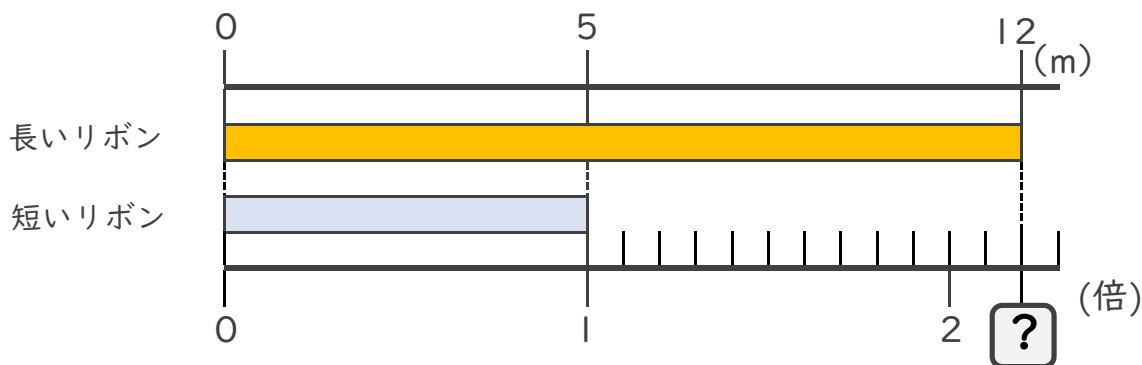


日にち： 月 日

名まえ _____

・ 次の問いに答えましょう。

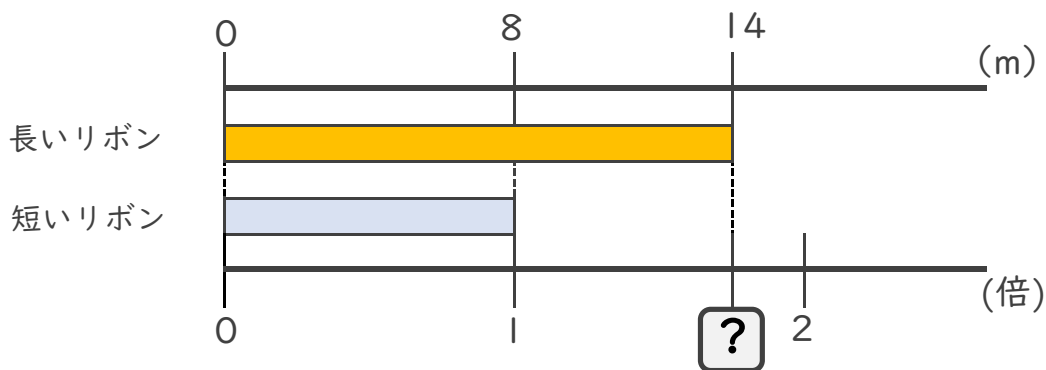
① 長いリボンは短いリボンの何倍でしょうか？



式： $12 \div 5 = 2.4$

答え： 2.4倍

② 長いリボンは短いリボンの何倍でしょうか？



式： $14 \div 8 = 1.75$

答え： 1.75倍

③ 12mのリボンと15mのリボンがあります。
長いリボンは短いリボンの何倍でしょうか？

式： $15 \div 12 = 1.25$

答え： 1.25倍

