



小数のかけ算 16

◎ 長方形の面積



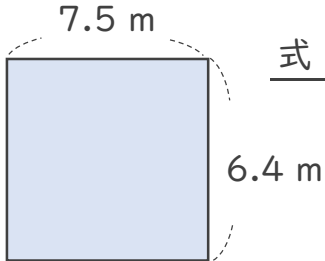
日にち： 月 日

名まえ _____

1 次の長方形の面積は何㎡でしょうか。

①

<筆算>



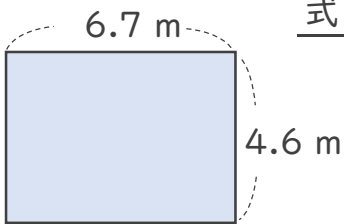
式： _____

×

答え： _____

②

<筆算>



式： _____

×

答え： _____

2 積が8より大きくなるもの、同じもの、小さくなるものを選び、番号を書きましょう。

- ① 8×1.1 ② 8×1 ③ 8×1.99 ④ 8×0.9 ⑤ 8×0.8

大きくなるもの： _____

小さくなるもの： _____

同じもの： _____





小数のかけ算 16

㊦ 長方形の面積

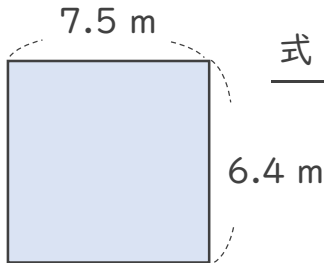


日にち： 月 日

名まえ _____

1 次の長方形の面積は何㎡でしょうか。

①



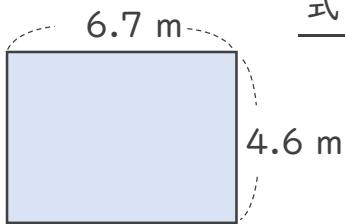
式： $6.4 \times 7.5 = 48$

答え： 48 m^2

<筆算>

$$\begin{array}{r} 6.4 \\ \times 7.5 \\ \hline 320 \\ 448 \\ \hline 48.00 \end{array}$$

②



式： $4.6 \times 6.7 = 30.82$

答え： 30.82 m^2

<筆算>

$$\begin{array}{r} 4.6 \\ \times 6.7 \\ \hline 322 \\ 276 \\ \hline 30.82 \end{array}$$

2 積が8より大きくなるもの、同じもの、小さくなるものを選び、番号を書きましょう。

- ① 8×1.1 ② 8×1 ③ 8×1.99 ④ 8×0.9 ⑤ 8×0.8

大きくなるもの： ① と ③

小さくなるもの： ④ と ⑤

同じもの： ②

