



# 整数と小数 10

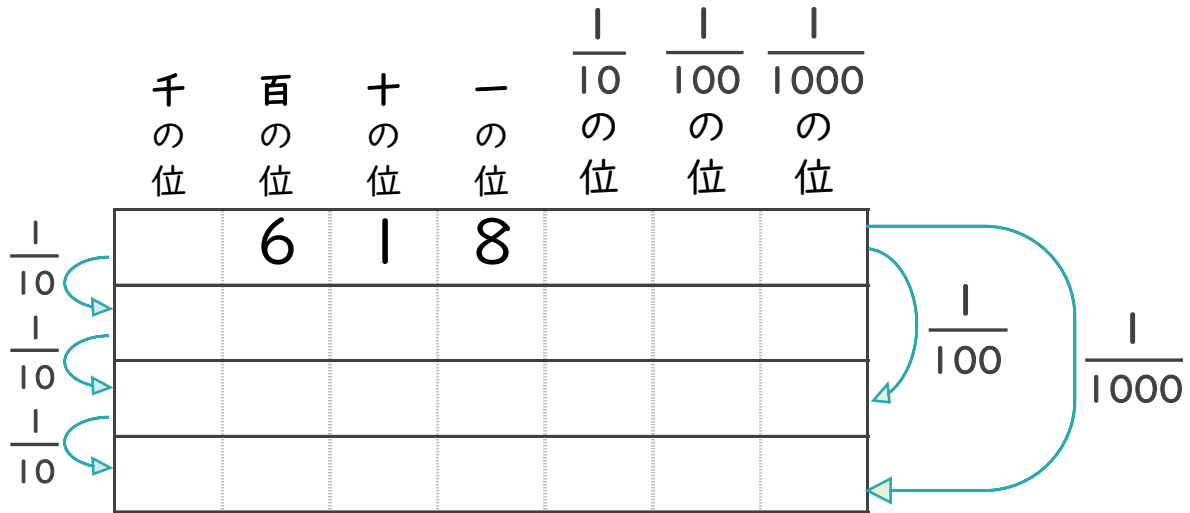
◎10分の1, 100分の1などの位の移動



日にち： 月 日

名まえ \_\_\_\_\_

618を  $\frac{1}{10}$ ,  $\frac{1}{100}$ ,  $\frac{1}{1000}$  にすると、どんな数になるでしょう。

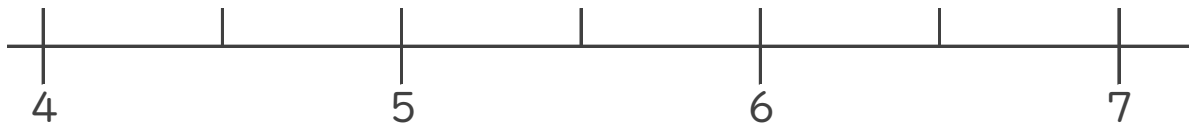


2 次のア～エの数について、次の問いに答えましょう。

ア 5.612      イ 4.243

ウ 6.864      エ 5.34

① ア～エの数を、数直線上に記号で書きこみましょう。



② いちばん5に近い数はいくつですか。

答え： \_\_\_\_\_

③ いちばん小さい数はいくつですか。

答え： \_\_\_\_\_



# 整数と小数 10

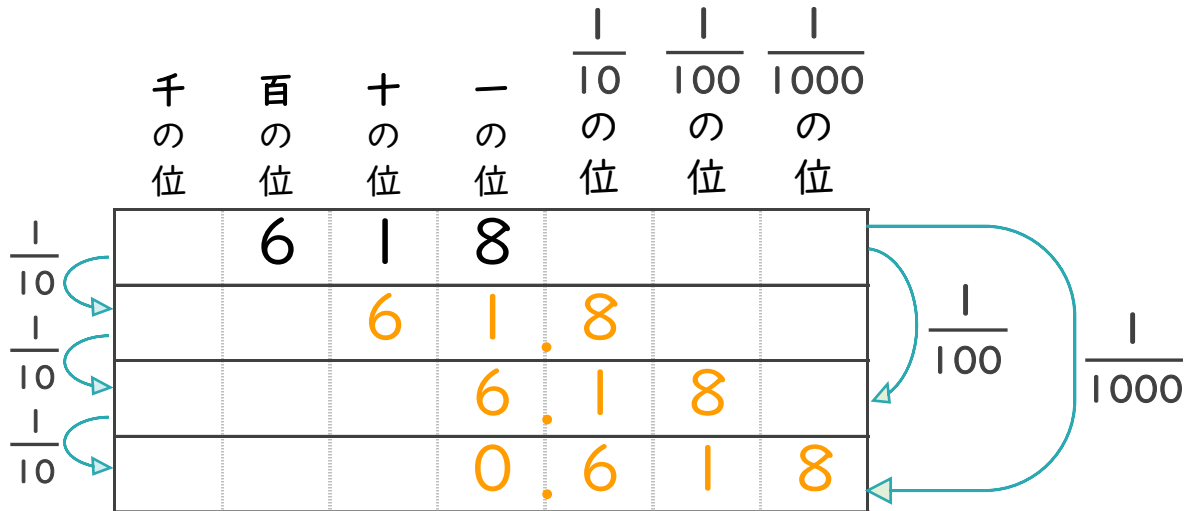
◎10分の1, 100分の1などの位の移動



日にち： 月 日

名まえ \_\_\_\_\_

1 618を  $\frac{1}{10}$ ,  $\frac{1}{100}$ ,  $\frac{1}{1000}$  にすると、どんな数になるでしょう。

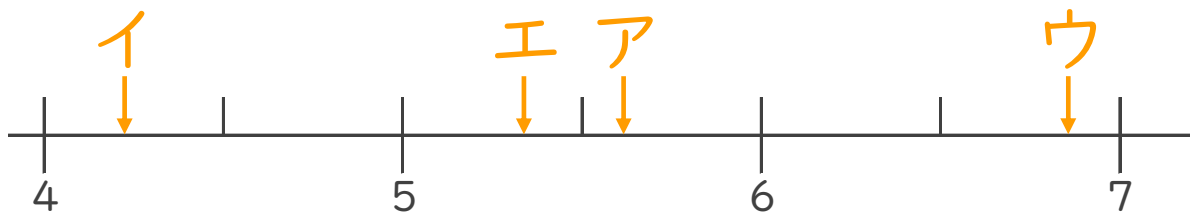


2 次のア～エの数について、次の問いに答えましょう。

ア 5.612      イ 4.243

ウ 6.864      エ 5.34

① ア～エの数を、数直線上に記号で書きこみましょう。



② いちばん5に近い数はいくつですか。

答え： **エ**

③ いちばん小さい数はいくつですか。

答え： **イ**