



平均 3

◎ 平均を比べてみよう



日にち： 月 日


名まえ _____

- 1 Aグループは、7人で折り紙のつるを98羽折りました。
Bグループは、9人で折り紙のつるを162羽折りました。
1人平均では、どちらのグループがたくさんつるを折ったでしょう。


式:

答え ()


- 2 次のたまごの重さの平均を求めましょう。




55g




53g



58g




56g



52g



57g



54g

式:

答え ()



平均 3

◎ 平均を比べてみよう



日にち： 月 日

名まえ _____


- 1 Aグループは、7人で折り紙のつるを98羽折りました。
Bグループは、9人で折り紙のつるを162羽折りました。
1人平均では、どちらのグループがたくさんつるを折ったでしょう。

式: $A \cdots 98 \div 7 = 14$


$$B \cdots 162 \div 9 = 18$$

答え $\left(B \text{ グループ} \right)$


- 2 次のたまごの重さの平均を求めましょう。




55g



53g



58g




56g



52g



57g



54g

式: $(55 + 53 + 58 + 56 + 52 + 57 + 54) \div 7$
 $= 385 \div 7$
 $= 55$

答え $\left(55g \right)$