

分数のたし算とひき算 I

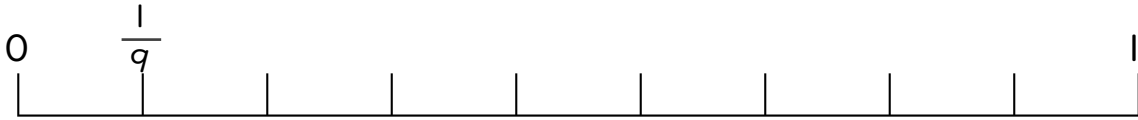
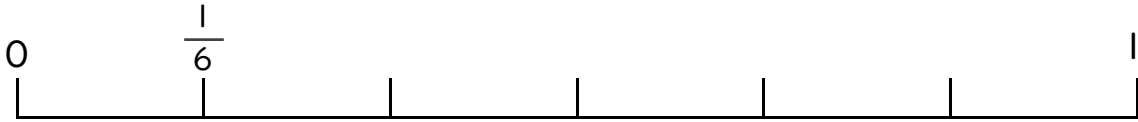
◎ 数直線と大きさの等しい分数



日にち： 月 日

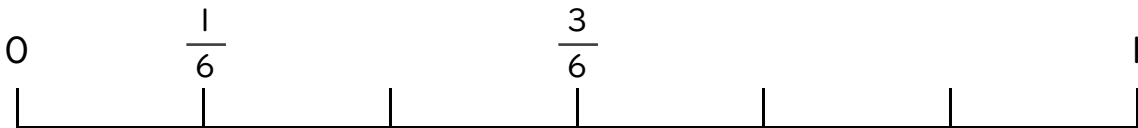
名まえ _____

1 $\frac{2}{3}$ と大きさの等しい分数を2つ見つけましょう。



答え _____

2 $\frac{3}{6}$ と大きさの等しい分数を2つ見つけましょう。



答え _____



分数のたし算とひき算 ①

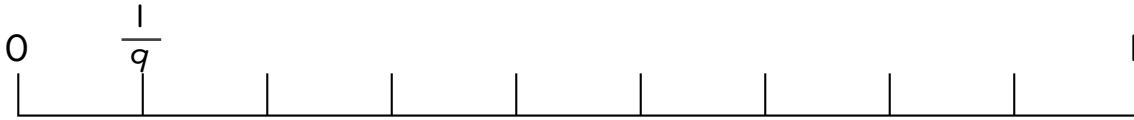
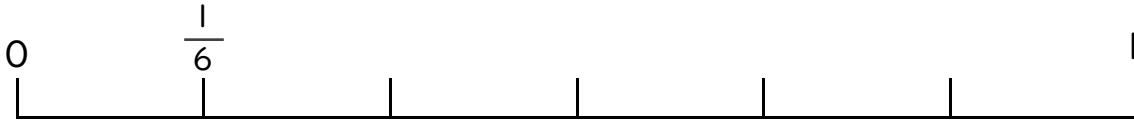
◎ 数直線と大きさの等しい分数



日にち： 月 日


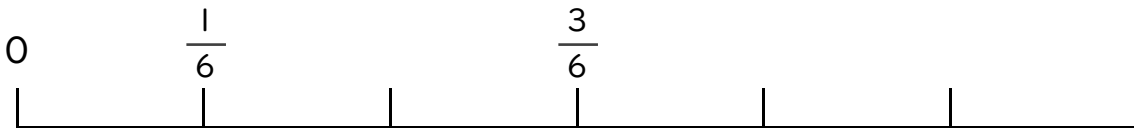
名まえ _____

1 $\frac{2}{3}$ と大きさの等しい分数を2つ見つけましょう。



答え $\frac{4}{6}$ と $\frac{6}{9}$

2 $\frac{3}{6}$ と大きさの等しい分数を2つ見つけましょう。



答え $\frac{6}{12}$ と $\frac{9}{18}$

