



直方体や
立方体の体積 3

◎ 直方体の体積を求める公式

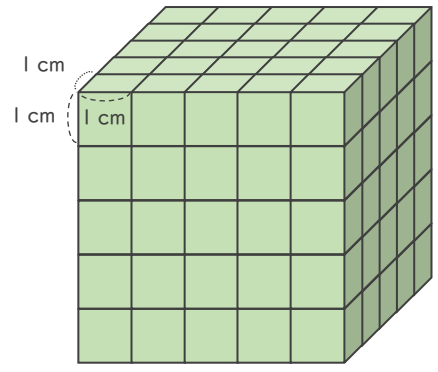
14

日にち： 月 日

名まえ _____

1 | 1辺が1cmの立方体を使って、直方体や立方体を作りました。体積は何 cm^3 ですか。

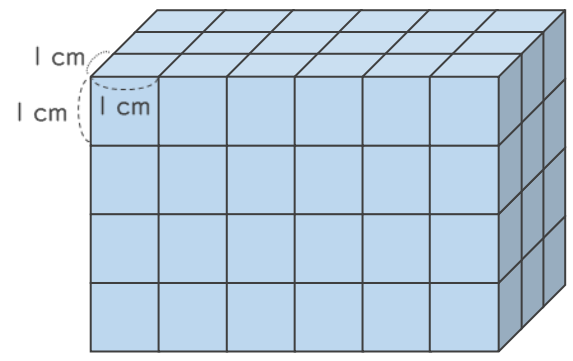
①



式： $5 \times 5 \times 5 = 125$

答え (125cm^3)

②

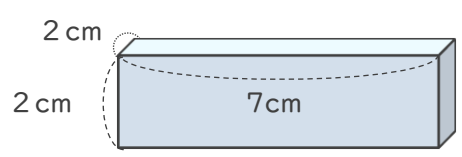


式： $3 \times 6 \times 4 = 72$

答え (72cm^3)

2 次の直方体の体積を求めましょう。

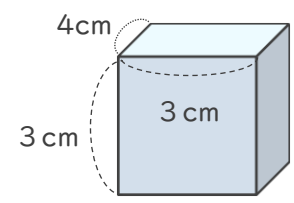
①



式： $2 \times 7 \times 2 = 28$

答え (28cm^3)

②



式： $4 \times 3 \times 3 = 36$

答え (36cm^3)