

# 小数の倍2

◎ 短いリボンは長いリボンの何倍？

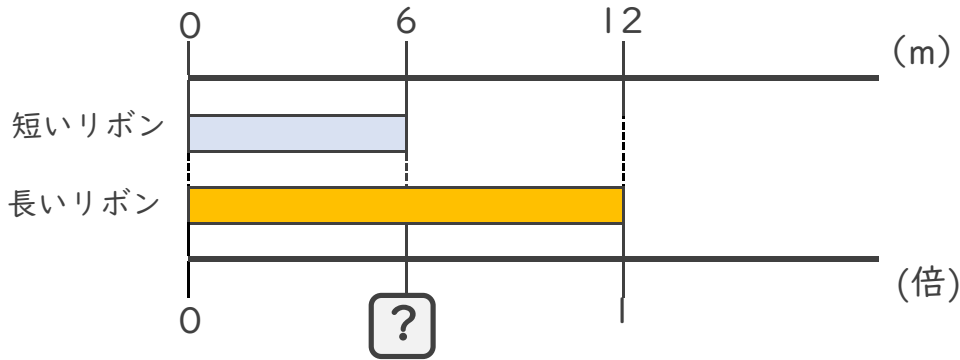


日にち： 月 日

名まえ \_\_\_\_\_

・ 次の問いに答えましょう。

① 短いリボンは長いリボンの何倍でしょうか？



式：

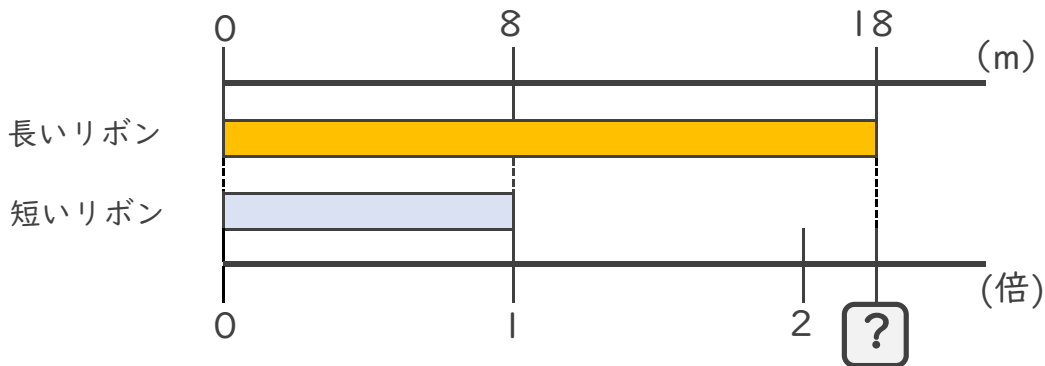
答え： \_\_\_\_\_

② 6mのリボンと8mのリボンがあります。  
短いリボンは長いリボンの何倍でしょうか？

式：

答え： \_\_\_\_\_

③ 長いリボンは短いリボンの何倍でしょうか？



式：

答え： \_\_\_\_\_





## 小数の倍2

◎ 短いリボンは  
長いリボンの何倍？

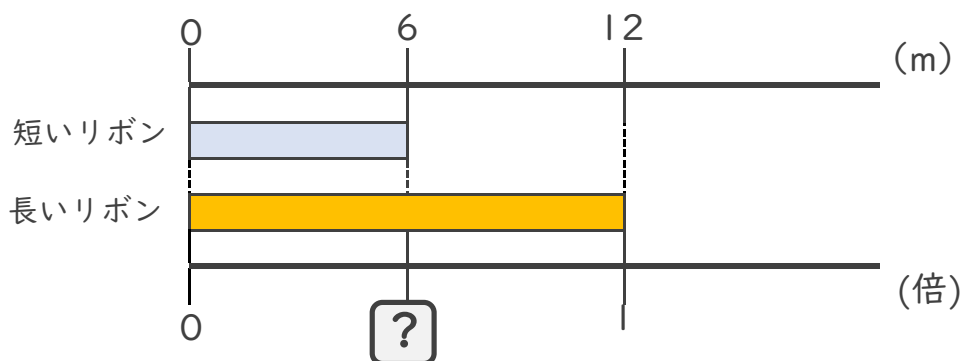
14

日にち： 月 日

名まえ \_\_\_\_\_

・ 次の問いに答えましょう。

① 短いリボンは長いリボンの何倍でしょうか？



式：  $6 \div 12 = 0.5$

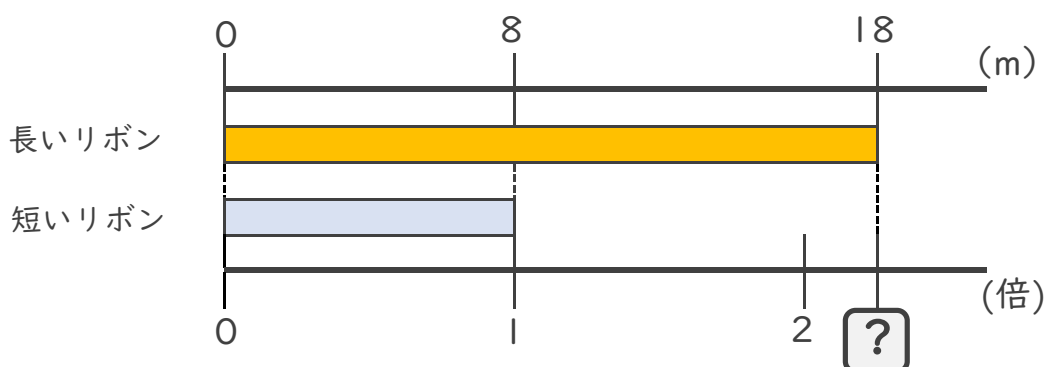
答え： 0.5倍

② 6mのリボンと8mのリボンがあります。  
短いリボンは長いリボンの何倍でしょうか？

式：  $6 \div 8 = 0.75$

答え： 0.75倍

③ 長いリボンは短いリボンの何倍でしょうか？



式：  $18 \div 8 = 2.25$

答え： 2.25倍

