

# 小数の倍①

◎ 長いリボンは  
短いリボンの何倍？

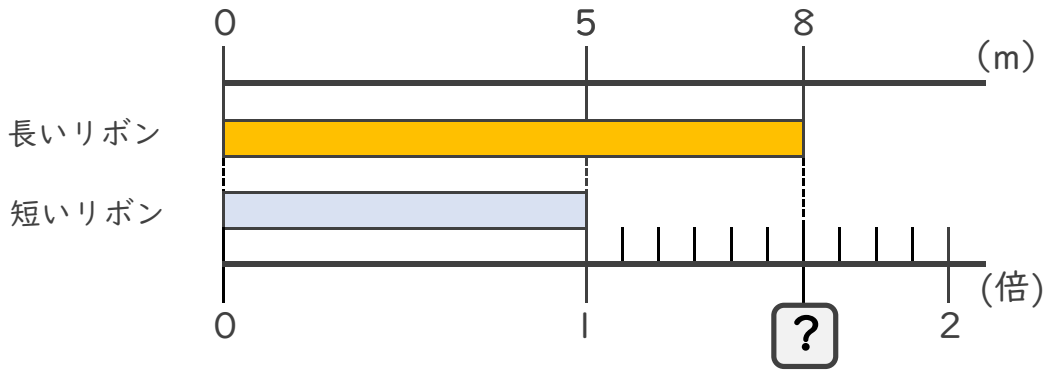


日にち： 月 日

名まえ \_\_\_\_\_

・ 次の問いに答えましょう。

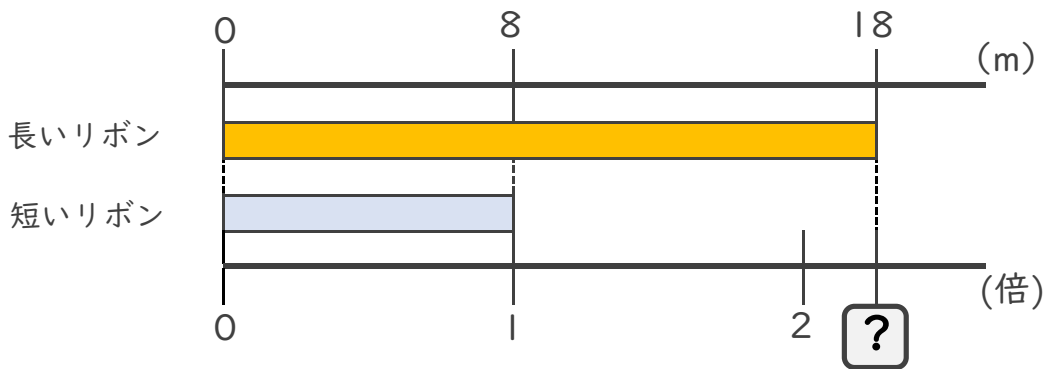
① 長いリボンは短いリボンの何倍でしょうか？



式： 8 ÷ 5 =

答え： \_\_\_\_\_

② 長いリボンは短いリボンの何倍でしょうか？



式：


答え： \_\_\_\_\_

③ 12mのリボンと21mのリボンがあります。  
長いリボンは短いリボンの何倍でしょうか？

式：

答え： \_\_\_\_\_





# 小数の倍①

◎ 長いリボンは  
短いリボンの何倍？

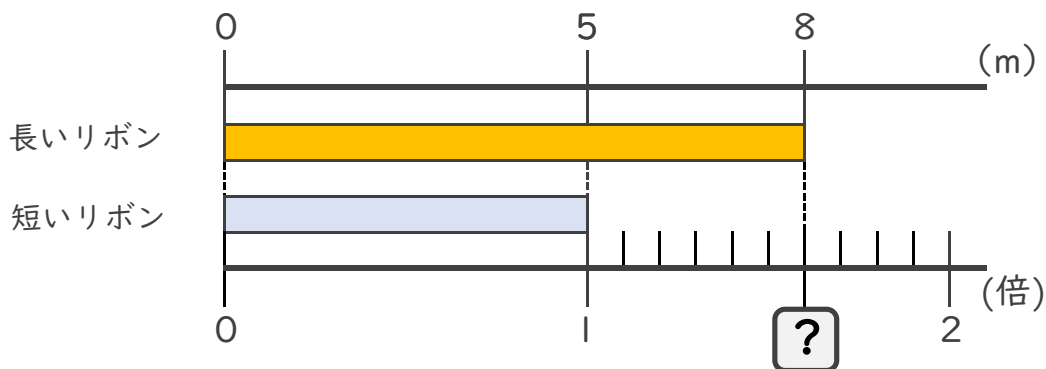


日にち： 月 日

名まえ \_\_\_\_\_

・ 次の問いに答えましょう。

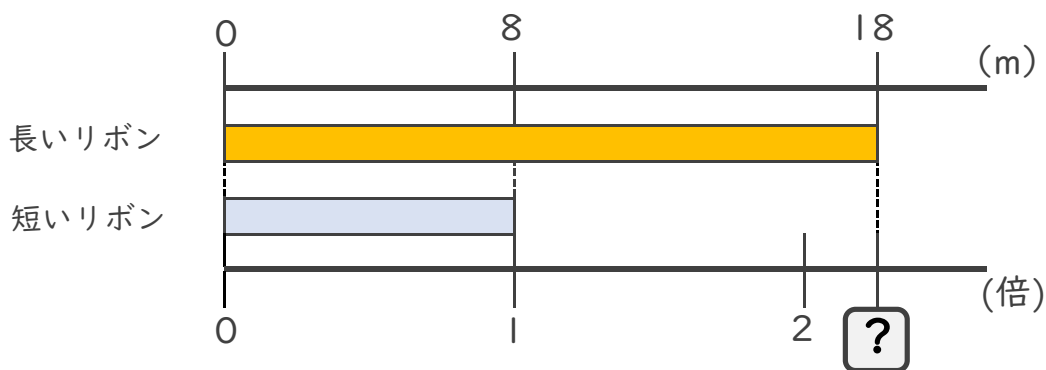
① 長いリボンは短いリボンの何倍でしょうか？



式:  $8 \div 5 = 1.6$

答え: 1.6倍

② 長いリボンは短いリボンの何倍でしょうか？



式:  $18 \div 8 = 2.25$

答え: 2.25倍

③ 12mのリボンと21mのリボンがあります。  
長いリボンは短いリボンの何倍でしょうか？

式:  $21 \div 12 = 1.75$

答え: 1.75倍

