



小数の倍①

◎ 長いリボンは
短いリボンの何倍？

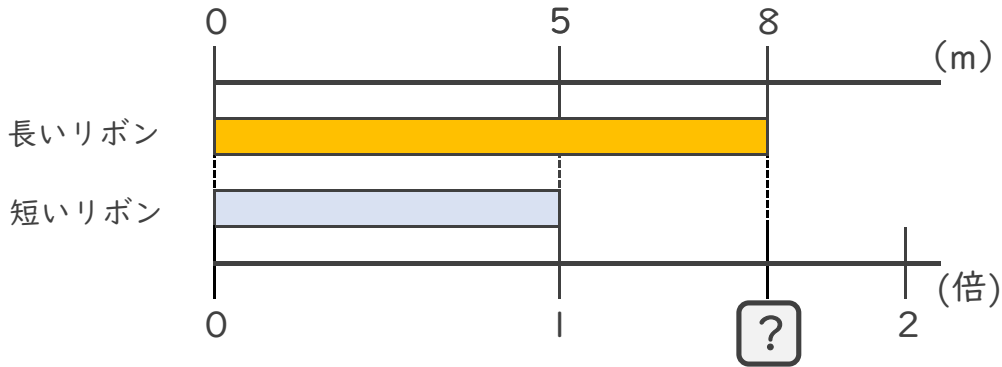


日にち： 月 日

名まえ _____

・ 次の問いに答えましょう。

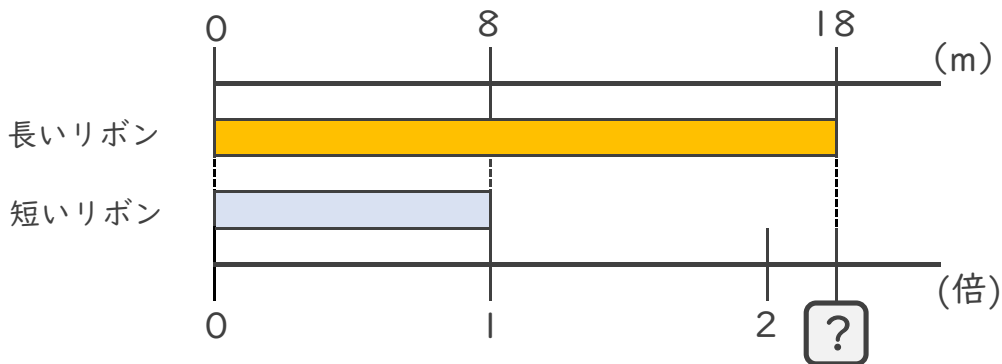
① 長いリボンは短いリボンの何倍ですか。



式：

答え： _____

② 長いリボンは短いリボンの何倍ですか。



式：

答え： _____

③ 12mのリボンと21mのリボンがあります。
長いリボンは短いリボンの何倍ですか。

式：

答え： _____





小数の倍①

◎ 長いリボンは
短いリボンの何倍？

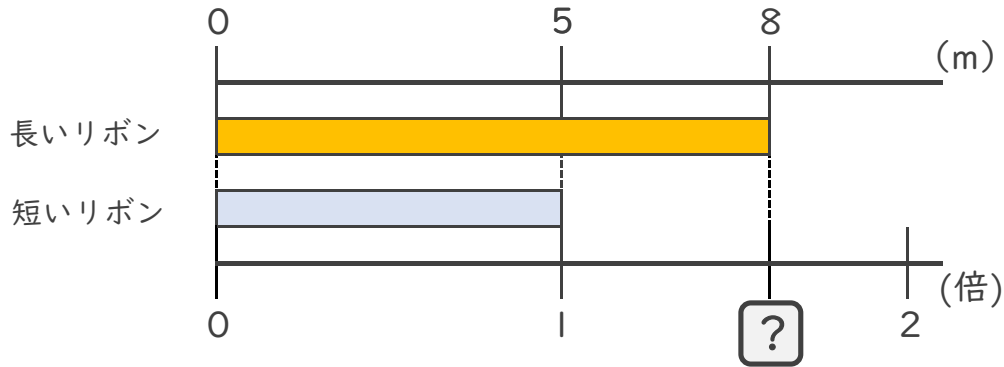


日にち： 月 日

名まえ _____

・ 次の問いに答えましょう。

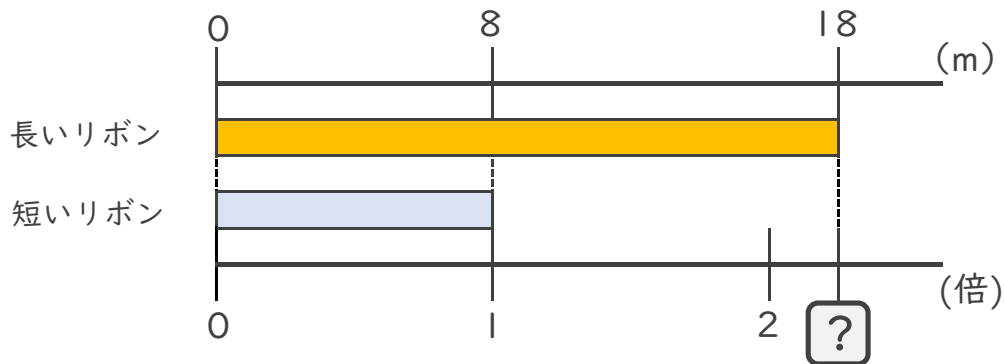
① 長いリボンは短いリボンの何倍ですか。



式： $8 \div 5 = 1.6$

答え： 1.6倍

② 長いリボンは短いリボンの何倍ですか。



式： $18 \div 8 = 2.25$

答え： 2.25倍

③ 12mのリボンと21mのリボンがあります。
長いリボンは短いリボンの何倍ですか。

式： $21 \div 12 = 1.75$

答え： 1.75倍

