



# 小数のかけ算 16

◎ 長方形の面積

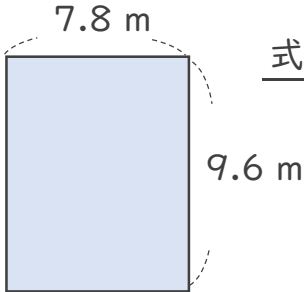


日にち：            月            日

名まえ \_\_\_\_\_

1 次の長方形の面積は何㎡でしょうか。

①



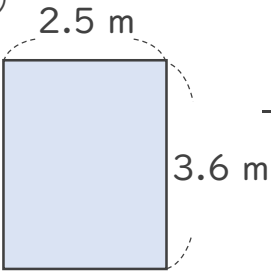
式： \_\_\_\_\_

<筆算>

×  
\_\_\_\_\_

答え： \_\_\_\_\_

②



式： \_\_\_\_\_

<筆算>

×  
\_\_\_\_\_

答え： \_\_\_\_\_

2 積が4より大きくなるもの、同じもの、小さくなるものを選び、番号を書きましょう。

- ①  $4 \times 1.05$     ②  $4 \times 1$     ③  $4 \times 2.9$     ④  $4 \times 0.4$     ⑤  $4 \times 0.8$

大きくなるもの： \_\_\_\_\_

小さくなるもの： \_\_\_\_\_

同じもの： \_\_\_\_\_





# 小数のかけ算 16

◎ 長方形の面積

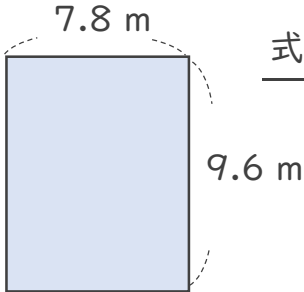


日にち：            月            日

名まえ \_\_\_\_\_

1 次の長方形の面積は何㎡でしょうか。

①



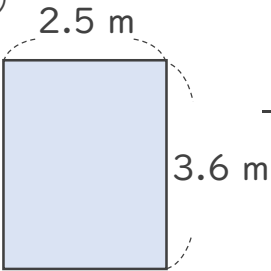
式：  $9.6 \times 7.8 = 74.88$

答え：  $74.88 \text{ m}^2$

<筆算>

$$\begin{array}{r}
 9.6 \\
 \times 7.8 \\
 \hline
 468 \\
 702 \\
 \hline
 74.88
 \end{array}$$

②



式：  $3.6 \times 2.5 = 9$

答え：  $9 \text{ m}^2$

<筆算>

$$\begin{array}{r}
 3.6 \\
 \times 2.5 \\
 \hline
 180 \\
 72 \\
 \hline
 9.00
 \end{array}$$

2 積が4より大きくなるもの、同じもの、小さくなるものを選び、番号を書きましょう。

- ①  $4 \times 1.05$     ②  $4 \times 1$     ③  $4 \times 2.9$     ④  $4 \times 0.4$     ⑤  $4 \times 0.8$

大きくなるもの： ① と ③

小さくなるもの： ④ と ⑤

同じもの： ②

