

整数と小数8

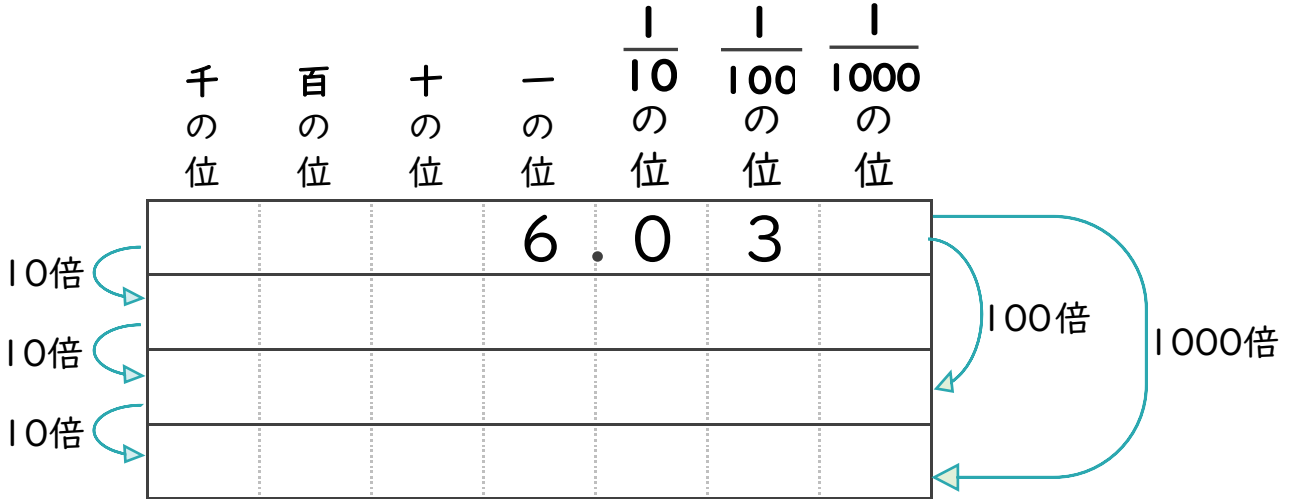
◎10倍などの小数点の移動



日にち： 月 日

名まえ

- 1 6.03を10倍、100倍、1000倍するとどんな数になるでしょう？
 (うすい文字は、しっかりなぞりましょう)

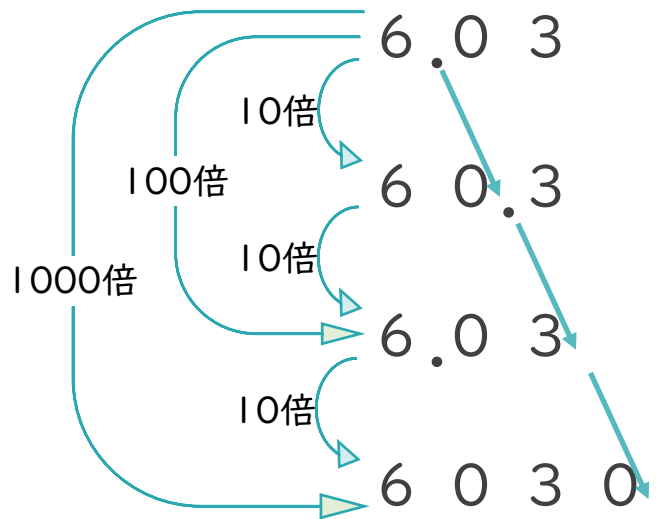



- 2 6.03を10倍、100倍、1000倍することを、式で表しましょう。
 (うすい文字は、しっかりなぞりましょう)

6.03 × 10 =

6.03 × 100 =

6.03 × 1000 =





整数と小数 8

◎10倍などの小数点の移動



日にち： 月 日

名まえ

- 1 6.03を10倍、100倍、1000倍するとどんな数になるでしょう？
 (うすい文字は、しっかりなぞりましょう)

	千の位	百の位	十の位	一の位	$\frac{1}{10}$ の位	$\frac{1}{100}$ の位	$\frac{1}{1000}$ の位
				6	.	0	3
10倍			6	0	.	3	
10倍		6	0	3			
10倍	6	0	3	0			

Diagram showing multiplication by 10, 100, and 1000 with arrows indicating the movement of the decimal point and digits.

- 2 6.03を10倍、100倍、1000倍することを、式で表しましょう。
 (うすい文字は、しっかりなぞりましょう)

$$6.03 \times 10 = 60.3$$

$$6.03 \times 100 = 603$$

$$6.03 \times 1000 = 6030$$

